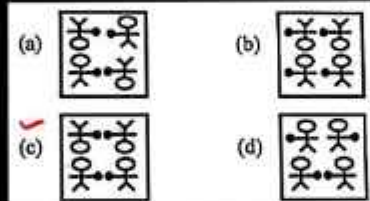
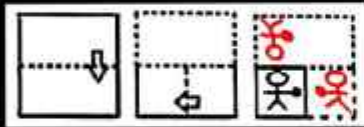


ROJGAR WITH ANKIT

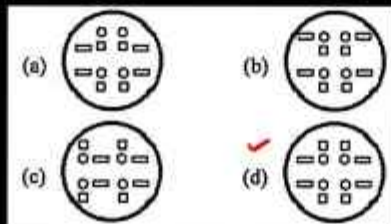
1. The figures given below show the sequence of folding a piece of paper and cutting the folded paper. How will the paper look when it is opened?

नीचे दी गई आकृतियों में कागज के एक टुकड़े को मोड़ने और मोड़े गए कागज को काटने के तरीके का क्रम दर्शाया गया है। कागज को खोले जाने पर वह कैसा दिखाई देगा?



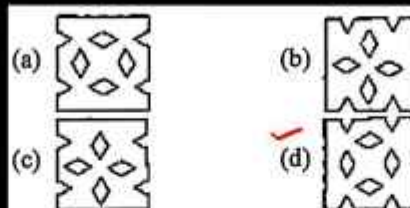
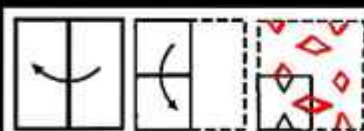
2. The sequence of folding a piece of paper and the manner in which the folded paper is cut are shown in the figures given below. How will the paper look when opened?

कागज के एक टुकड़े को मोड़ने के क्रम और मुड़े हुए कागज को काटने के तरीके को नीचे दी गई आकृतियों में दर्शाया गया है। खोलने पर, यह कागज कैसा दिखाई देगा?



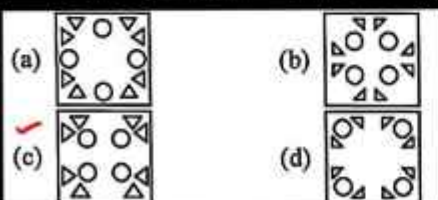
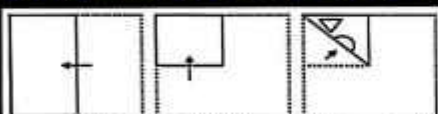
3. A paper is folded and cut as shown in the following figure. How will it look when it is opened?

एक कागज को निम्नांकित चित्र के अनुसार मोड़ा और काटा गया है। इसे खोले जाने पर यह कैसा दिखेगा?



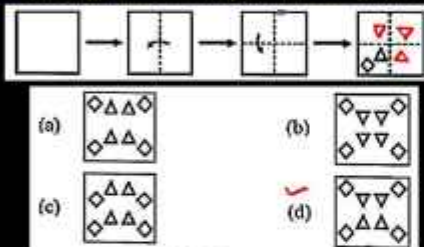
4. After folding, piercing and opening the paper as shown in the question figures below, which answer figure will it look like?

नीचे के प्रश्न आकृतियों में दिखाए अनुसार कागज को मोड़कर छेदने तथा खोलने के बाद वह किस उत्तर आकृति जैसा दिखाई देगा-



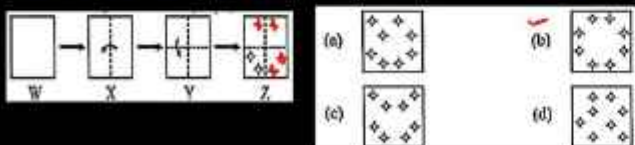
5. The sequence of folding a piece of paper and the manner in which the folded paper is cut are shown in the following figures. How will the paper look when it is opened?

कागज के एक टुकड़े को मोड़ने का क्रम और मोड़े गए कागज को काटने की विधि निम्नलिखित आकृतियों में दर्शायी गई है। कागज को खोलने पर यह कैसा दिखाई देगा?



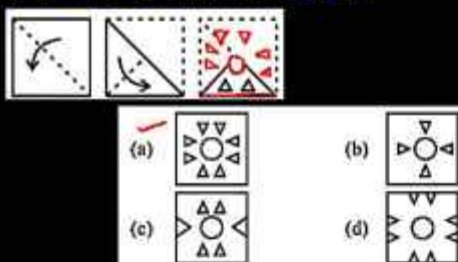
6. The sequence of folding a paper and the manner in which the folded paper is cut are shown in the following figures. How will the paper look when it is opened?

एक कागज को मोड़ने और मुड़े हुए कागज को काटने का तरीका निम्नलिखित आकृतियों में दिखाया गया है। खोले जाने पर यह कागज कैसा दिखाई देगा?



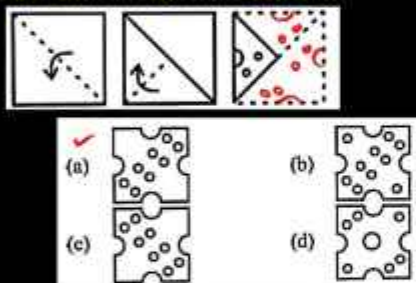
7. A square paper is folded and cut as shown below. How will the paper look when it is opened?

एक वर्गाकार कागज को मोड़ा गया और नीचे दर्शाए गए के अनुसार काटा गया है। खोलने पर वह कागज कैसा दिखाई देगा?

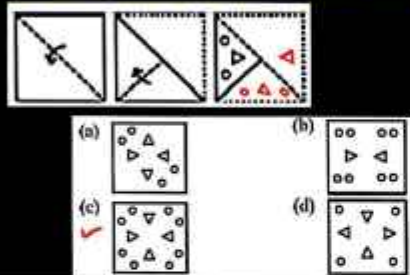


8. A square paper is folded and cut as shown below. How will it appear when it is opened?

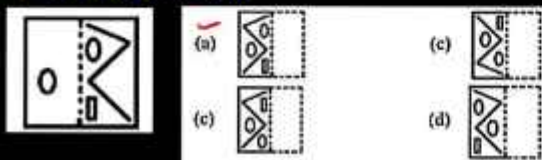
एक वर्गाकार कागज को मोड़ा गया और नीचे दर्शाए गए के अनुसार काटा गया है। इसे खोलने पर यह कैसा दिखाई देगा?



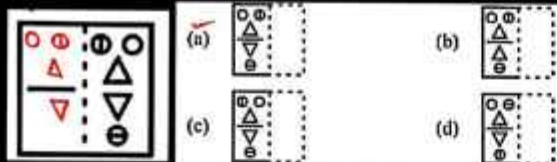
9. The sequence of folding and cutting of a piece of paper is shown in the figures given below. How will this paper appear when opened?
नीचे दी गई आकृतियों में कागज के एक टुकड़े को मोड़कर काटने का क्रम दिखाया गया है। यह कागज खोलने पर कैसा दिखाई देगा?



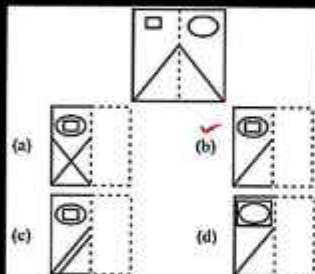
10. A picture of a transparent sheet with a pattern is given below. Select the option which shows how the pattern will appear when the transparent sheet is folded along the dotted line.
एक पारदर्शी शीट का चित्र एक पैटर्न के साथ नीचे दिया गया है। उस विकल्प का चयन करें जो यह दिखाता है कि बिंदीदार रेखा पर पारदर्शी शीट को मोड़ने पर पैटर्न कैसा दिखाई देगा।



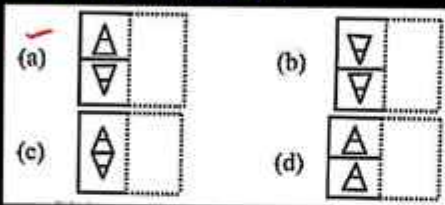
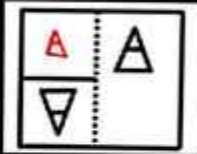
11. A picture of a transparent sheet with a pattern is given below. Select the option which shows how the pattern will appear when the transparent sheet is folded along the dotted line.
एक पारदर्शी शीट का चित्र एक पैटर्न के साथ नीचे दिया गया है। उस विकल्प का चयन करें जो यह दिखाता है कि बिंदीदार रेखा पर पारदर्शी शीट को मोड़ने पर पैटर्न कैसा दिखाई देगा।



12. If a sheet of transparent paper is folded along the dotted line, which of the following options will the sheet appear?
यदि पारदर्शी कागज की शीट को बिन्दु रेखा से मोड़ा जाए तो शीट निम्नलिखित विकल्पों में से किस प्रकार दिखाई देगी?



13. If a sheet of transparent paper is folded along the dotted line, which of the following options will the transparent paper appear as?
 यदि पारदर्शी कागज की शीट को बिंदु रेखा से मोड़ा जाए तो पारदर्शी कागज निम्नलिखित विकल्पों में से किस प्रकार दिखाई देगी?



14. If a sheet of transparent paper is folded along the dotted line, which of the following options will the sheet appear as?
 यदि पारदर्शी कागज की शीट को बिंदु रेखा से मोड़ा जाए तो शीट निम्नलिखित विकल्पों में से किस प्रकार दिखाई देगी?

