

SUPER 30 SERIES



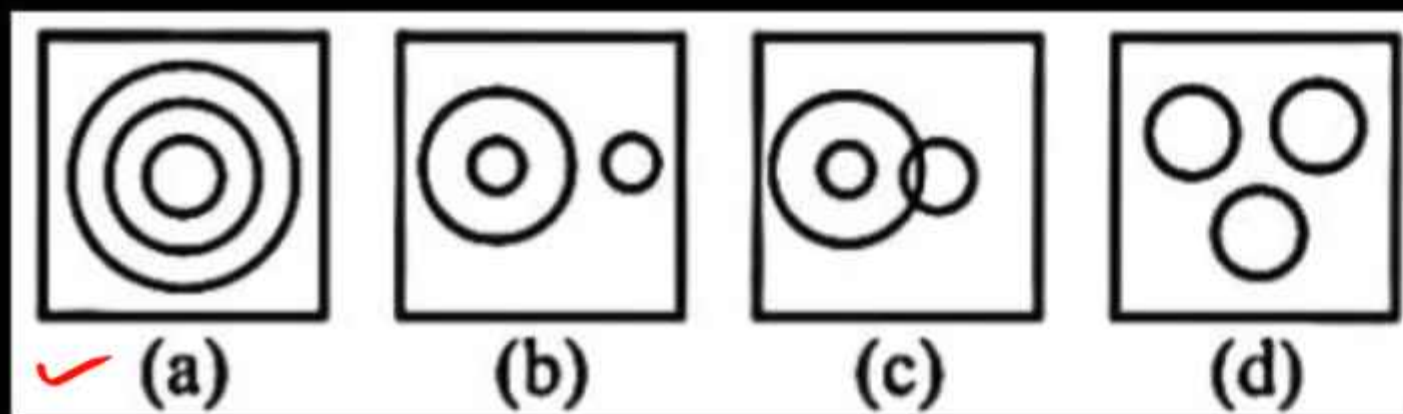
VENN DIAGRAM

$\frac{10}{30}$



1. Which of the following diagrams shows the relationship between building, gravel, pebbles?

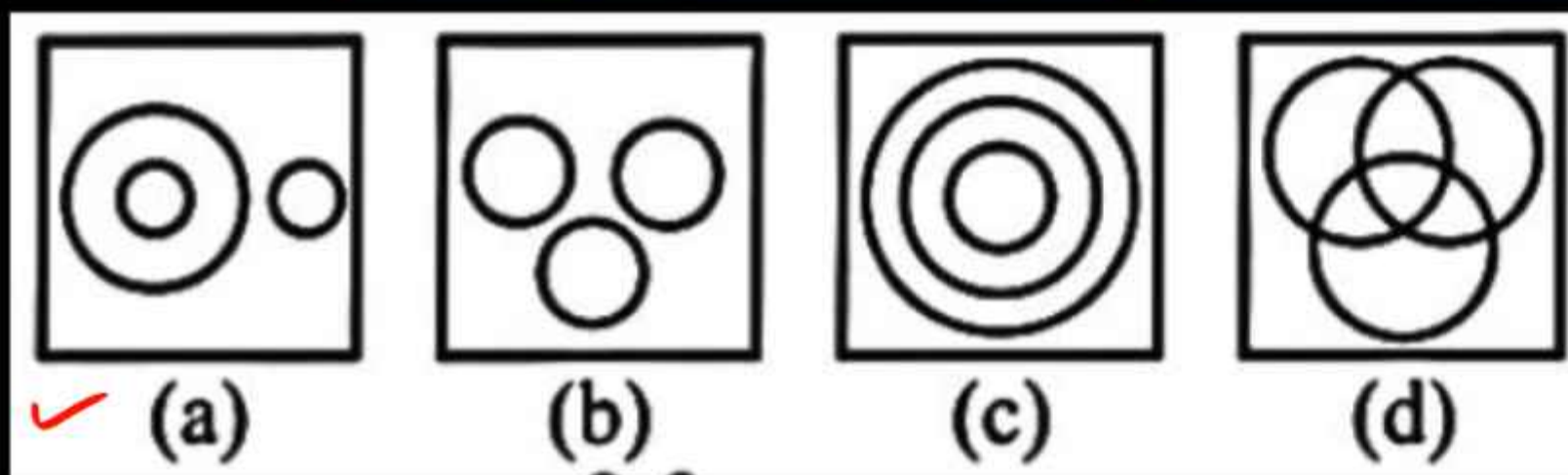
निम्न में से कौन सा आरेख इमारत, बजरी, रोड़ी के बीच सम्बन्ध को दर्शाता है?



2. Which of the following diagrams shows the relationship between all of these.

निम्नलिखित आरेख में से कौन इन सबके बीच रिश्ता दर्शाता है।

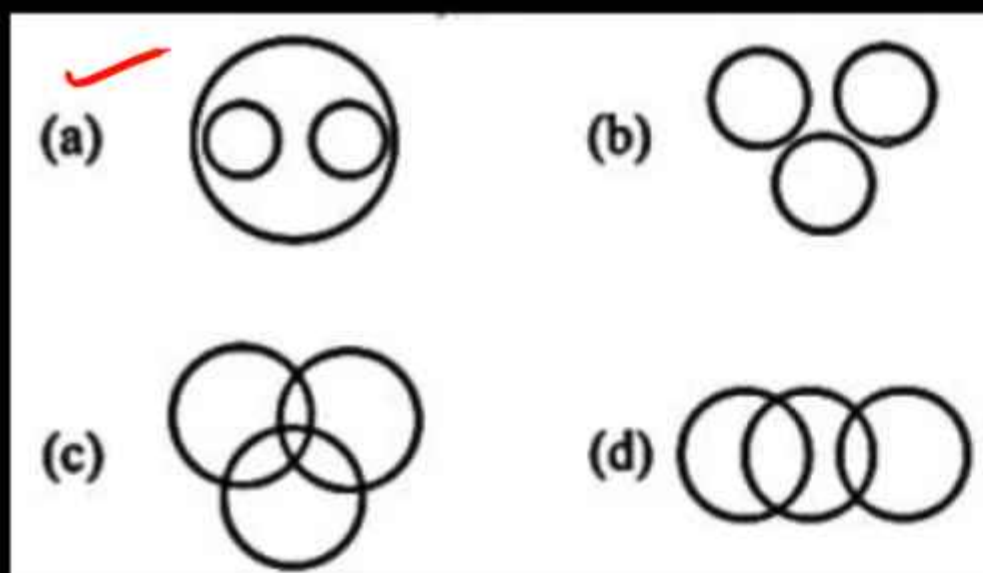
आयरलैंड, डबलिन, यूनान Ireland, Dublin, Greece



3. Which of the following diagrams shows the relationship between the following.

निम्नलिखित आरेखों में से कौन सा निम्न वर्णित के बीच रिश्ता दर्शाता है।

नाभिक, प्रोटॉन, न्यूट्रॉन Nucleus, Proton, Neutron



4. Which of the following figure from the options shows the relationship between the following.

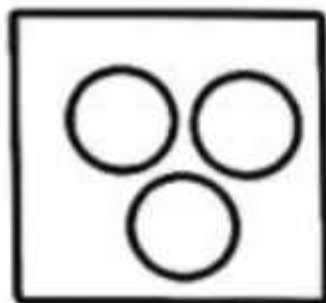
निम्न आकृतियों के विकल्पों में से कौन सी आकृति निम्न वर्णित के बीच संबंध को दर्शाती है-

सिलचर, असम, भारत Silchar, Assam, India

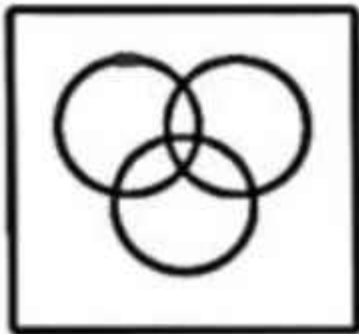
(a)



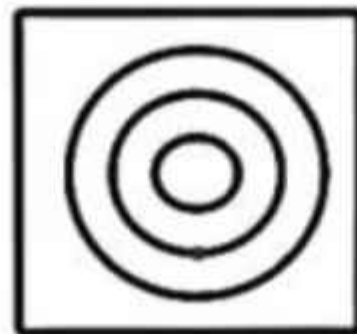
(b)



(c)

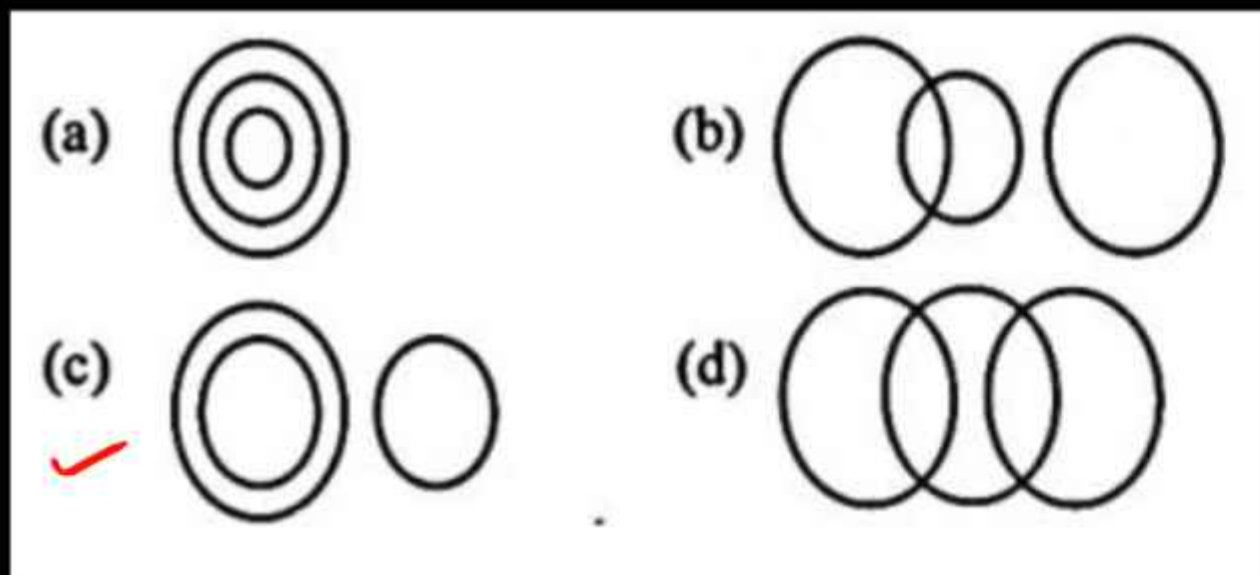


(d)

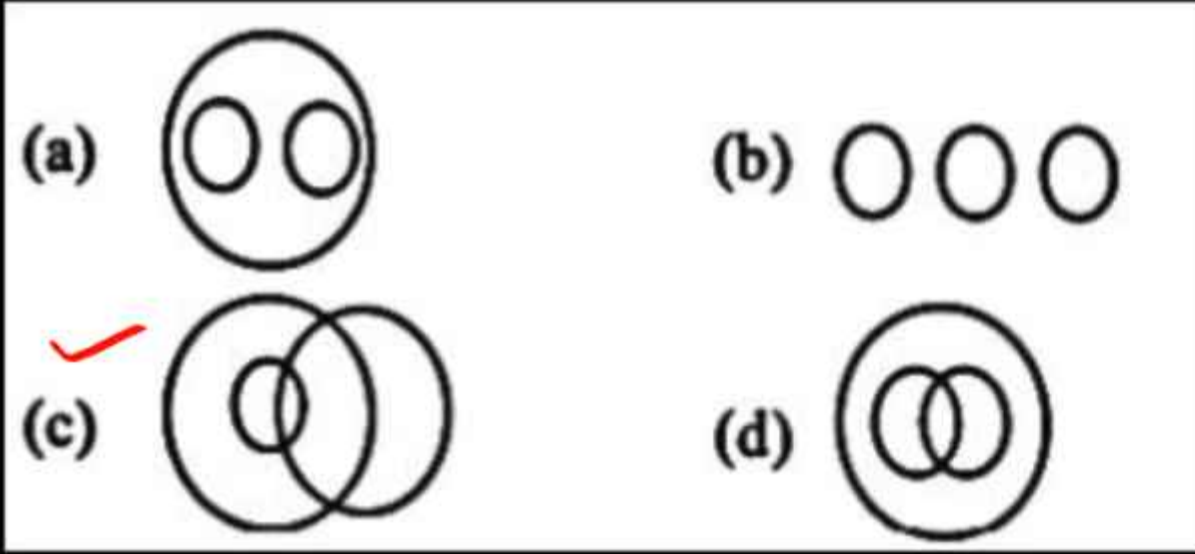


5. Which of the following diagrams best represents Qutub Minar, Delhi, and Eiffel Tower?

निम्नलिखित में से कौन-सा आरेख कुतुबमीनार, दिल्ली, और एफिल टॉवर का सर्वोत्तम प्रतिनिधित्व करता है?

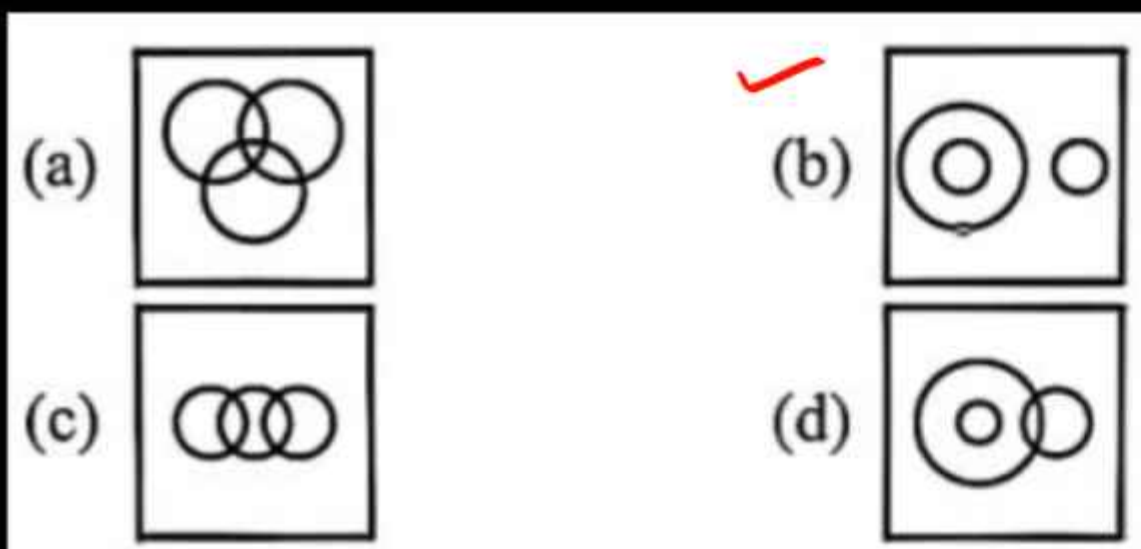


6. Which figure best represents doctor, woman, mother?
कौन चित्र डॉक्टर, स्त्री, माता का प्रदर्शन सर्वोत्तम रूप से करता है?



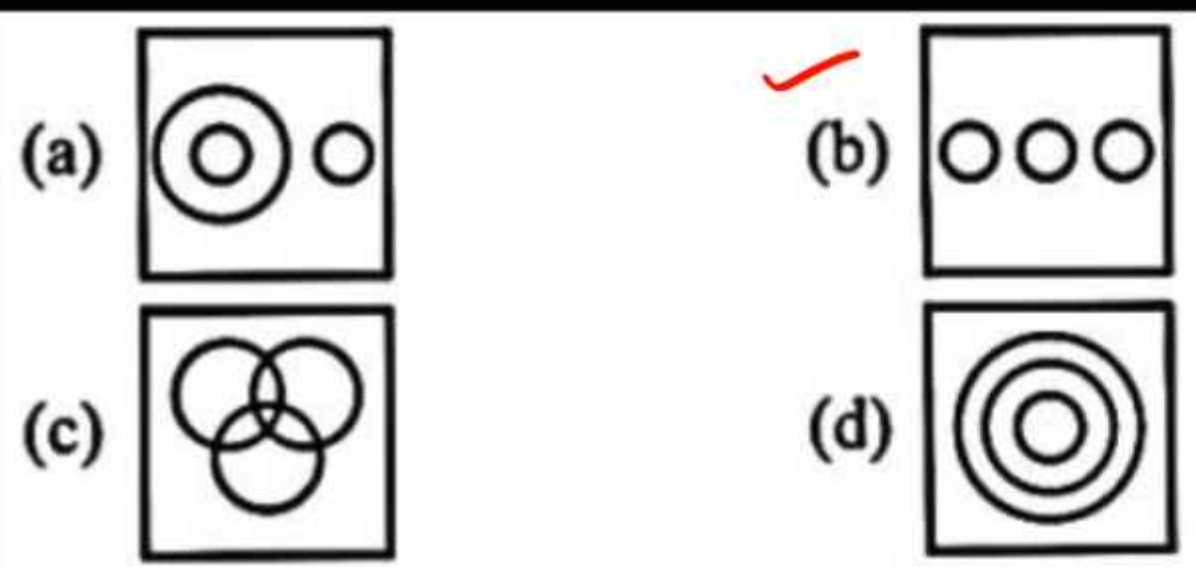
7. Which of the following diagrams from the options shows the relationship between Nobel Prize winner, mathematician, physicist?

विकल्प में निम्न में से कौन-सा आरेख नोबेल पुरस्कार विजेता, गणितज्ञ, भौतिक शास्त्री के बीच सम्बन्ध को दर्शाता है?



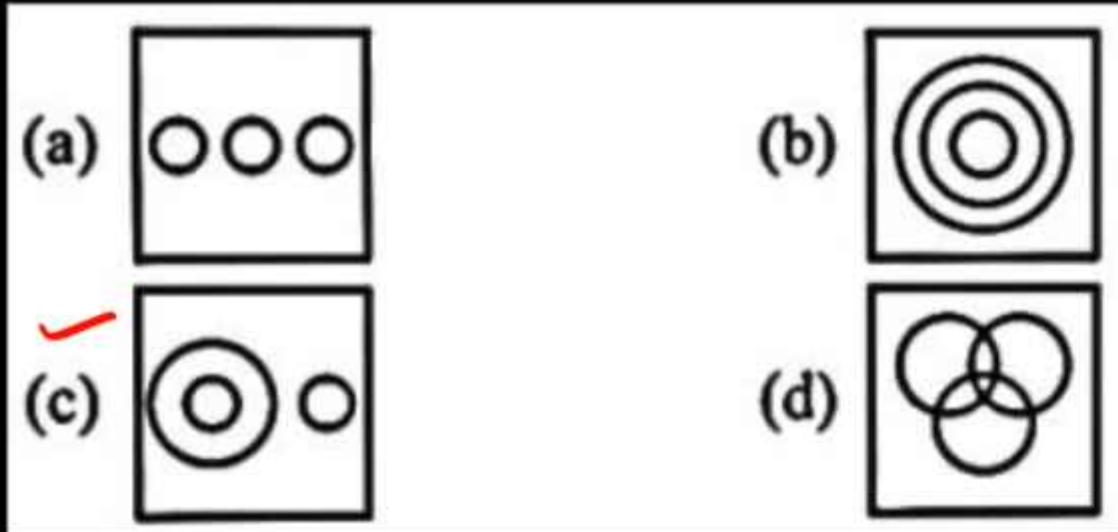
8. Which of the following diagrams shows the relationship between Google, Facebook, YouTube?

निम्न चित्रों में से कौन-सा गूगल, फेसबुक, यूट्यूब के बीच के सम्बन्ध को दर्शाता है?



9. Which of the following diagrams shows the relationship between bronze, silver, alloy?

निम्न चित्रों में से कौन-सा कांस्य, रजत, मिश्रधातु के बीच के सम्बन्ध को दर्शाता है?



10. Which of the following Venn diagrams correctly represents the relationship between the following classes :

निम्नलिखित में से कौन-सा वेन आरेख सही ढंग से निम्न वर्गों के बीच संबंधों को दर्शाता है :



खिलाड़ी, महिलाएं, नर्तकियों Players, Women, Dancers



11. Which of the following Venn diagrams correctly represents the relationship between the following classes ?

निम्नलिखित में से कौन सा वेन आरेख सही ढंग से निम्न वर्गों के बीच संबंधों को दर्शाता है ?

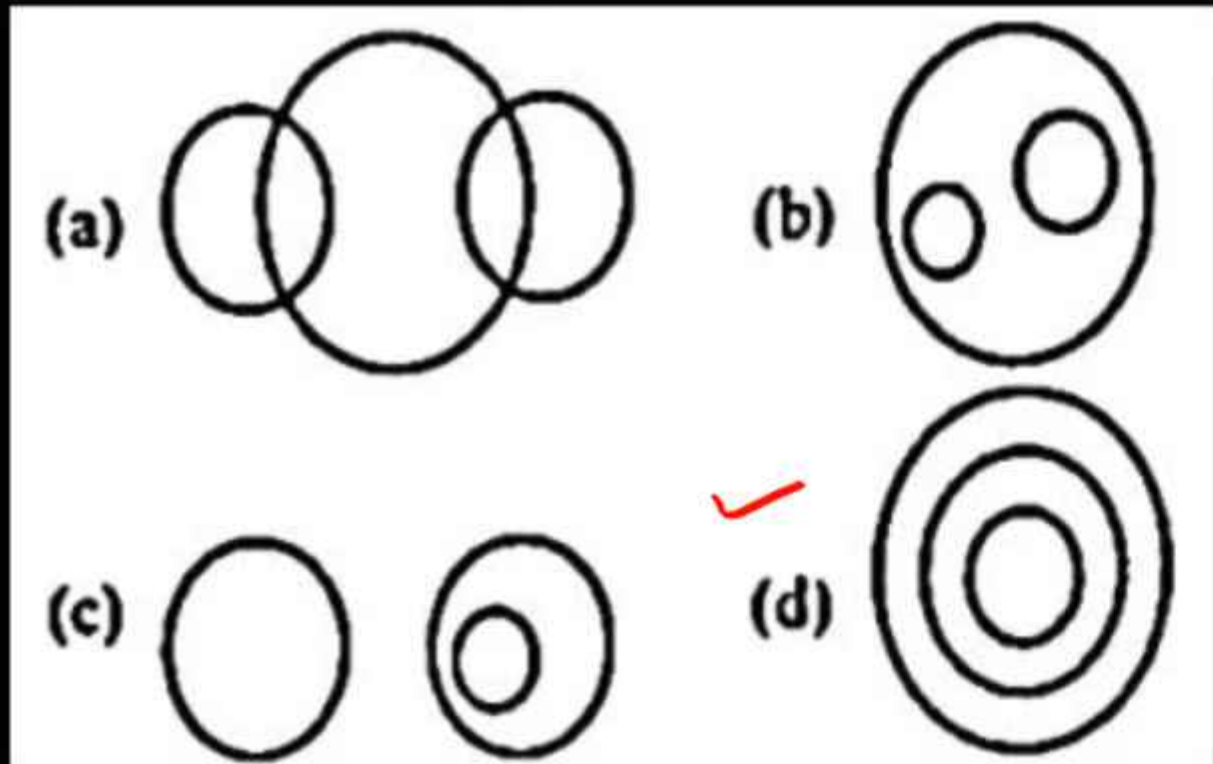
चाचा, रिश्तेदार, शिक्षित Uncle, Relatives, Educated



12. Select the Venn diagram that best represents the relationship between the given classes.

उस वेन आरेख का चयन कीजिए जो दिए गए वर्गों के बीच संबंध को सर्वोत्तम ढंग से प्रदर्शित करता है।

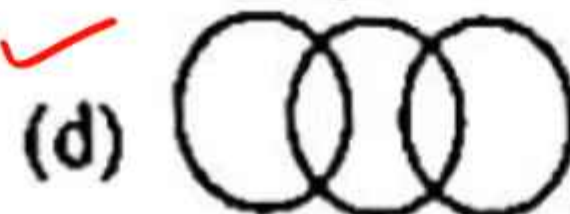
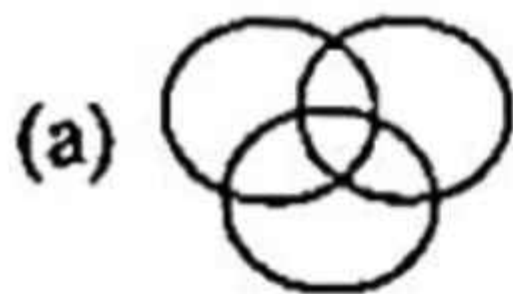
सौरमण्डल, ग्रह, ब्रह्मांड Solar System, Planets, Universe



13. Select the Venn diagram that best represents the relationship between the given classes.

उस बेन आरेख का चयन करें, जो दिए गए वर्गी में बीच के संबंध को सर्वोत्तम ढंग से निरूपित करता है।

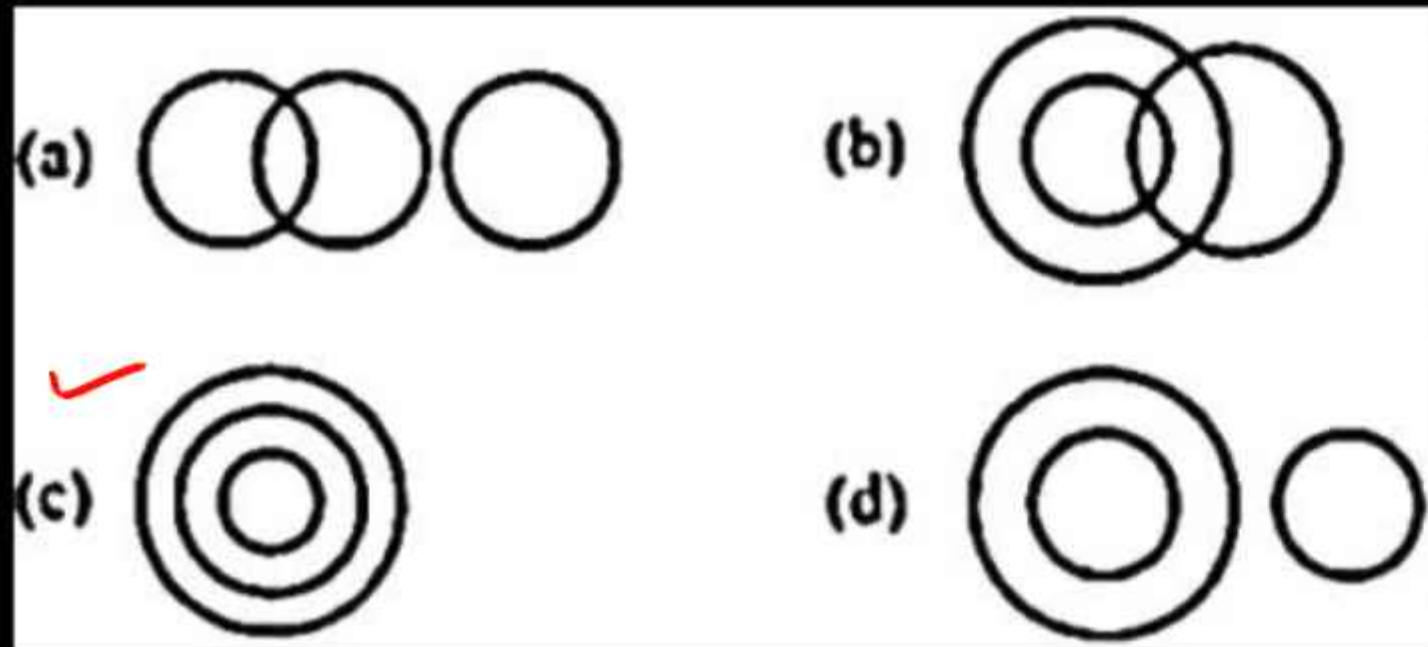
प्लास्टिक, पेपर, बैग Plastic, Paper, Bags



14. Select the Venn diagram that best represents the relationship between the following :

उस वेन आरेख का चयन कीजिए, जो निम्न के बीच के संबंध को सर्वोत्तम ढंग से निरूपित करता है-

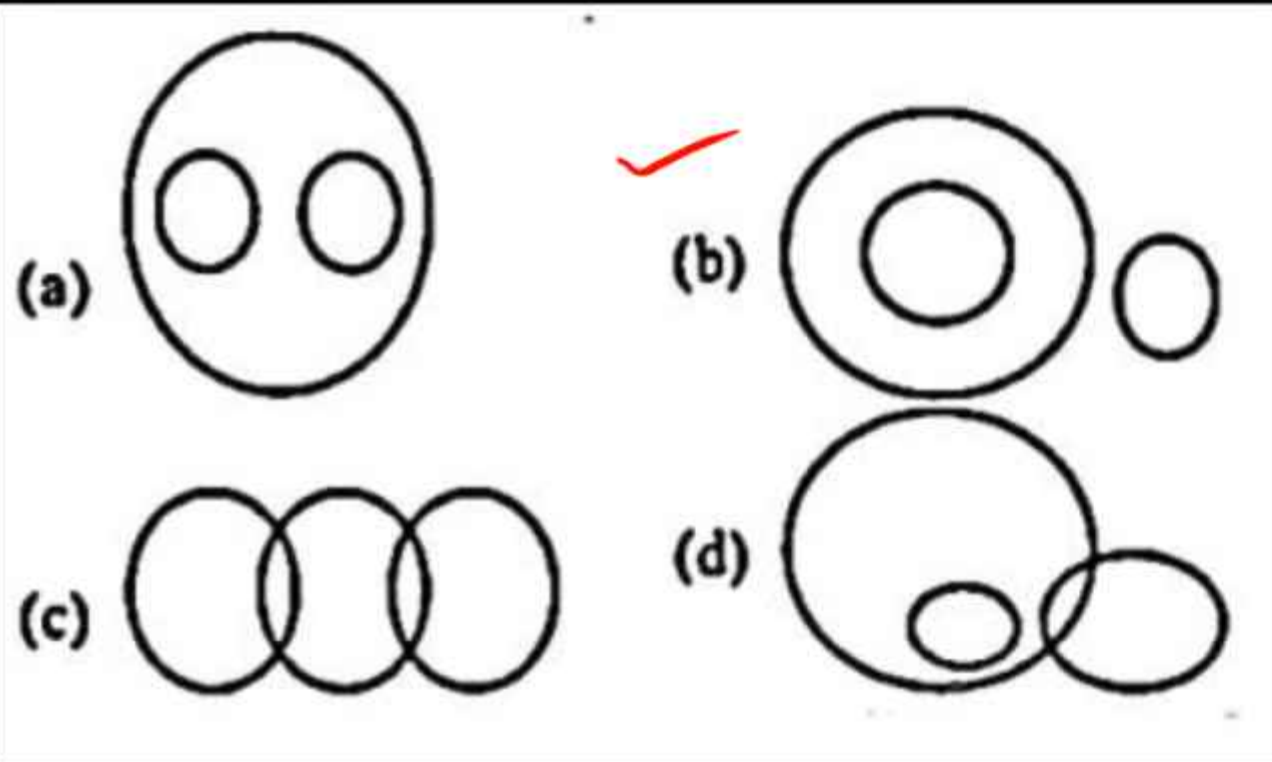
मुद्रा, अर्थव्यवस्था, रूपया Currency, Economy, Rupees



15. Select the Venn diagram that best represents the relationship between the given set of classes.

उस वेन आरेख का चयन करें, जो वर्गों के दिए गए समूह के बीच के संबंध को सर्वोत्तम ढंग से निरूपित करता है।

पक्षी, शुतुरमुर्ग, चमगादड़ Birds, Ostriches, Bats



16. Which of the following numbers in the Venn diagram represents businessmen who are only writers?

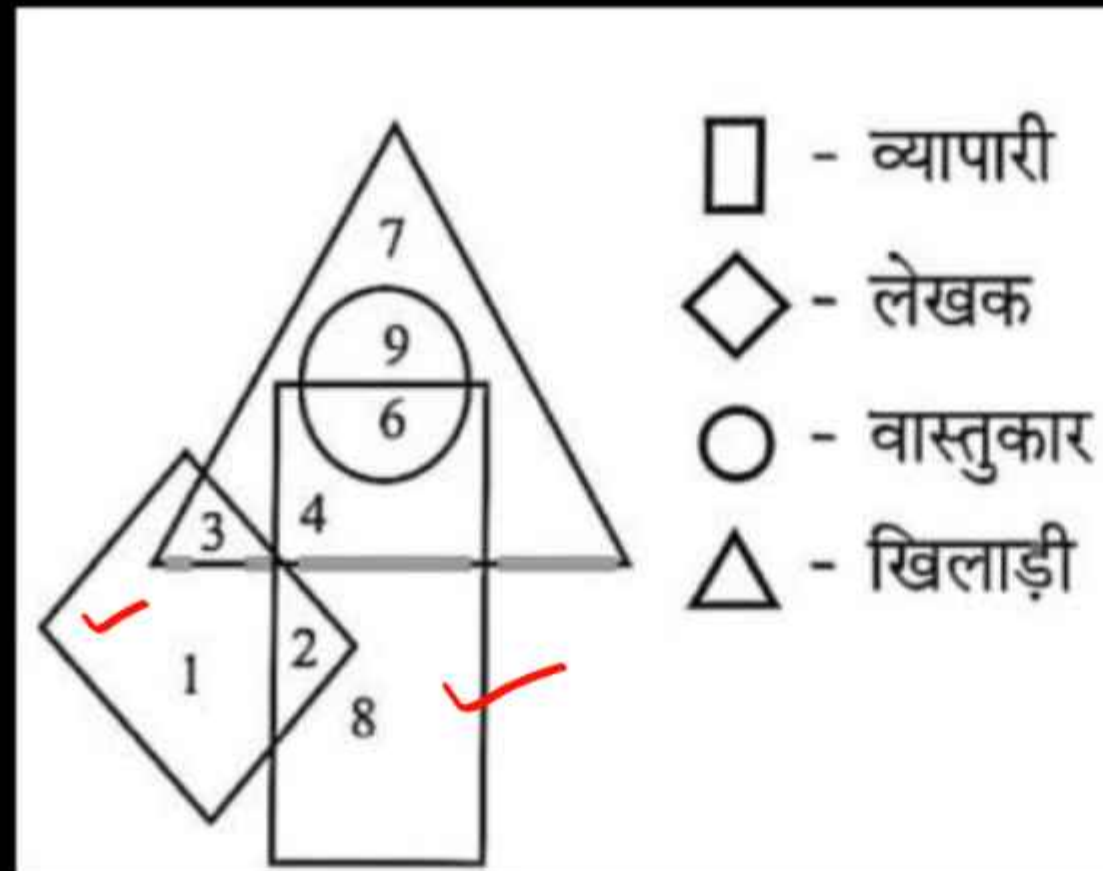
वेन आरेख में निम्नलिखित संख्याओं में से कौन सी संख्या उन व्यापारियों को दर्शाती है जो केवल लेखक हैं?

(a) 6

(b) 2 ✓

(c) 3

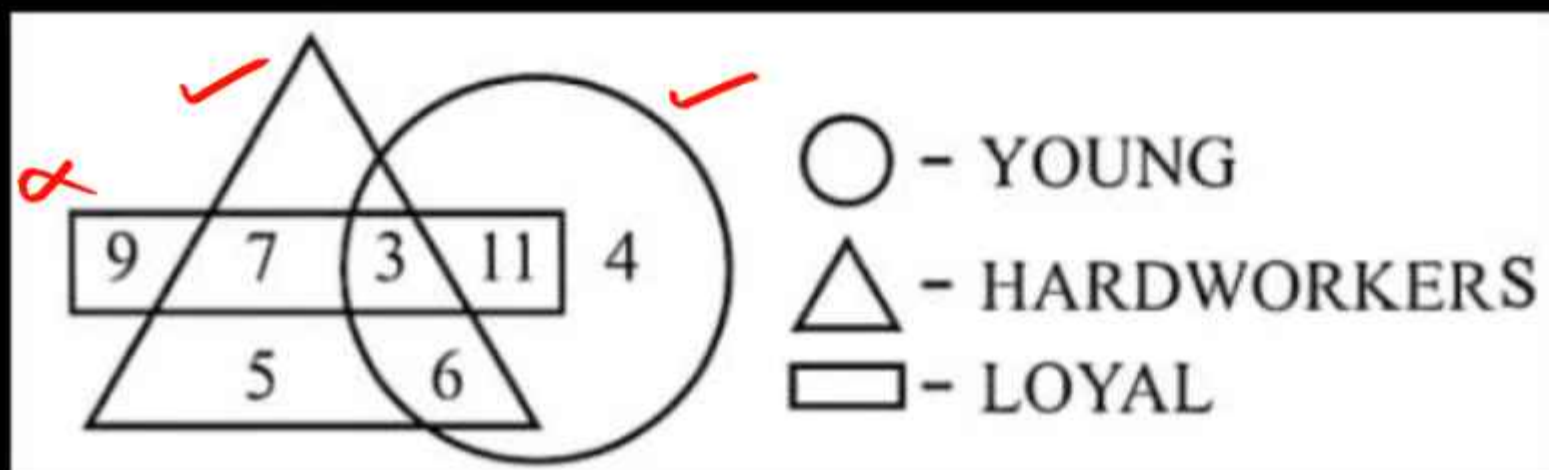
(d) 4



17. Which of the following numbers in the Venn diagram represents young and hardworking workers but not loyal ones?

वेन आरेख में निम्नलिखित में से कौन सी संख्या युवा और मेहनती श्रमिकों को दर्शाती है लेकिन वफादार को नहीं?

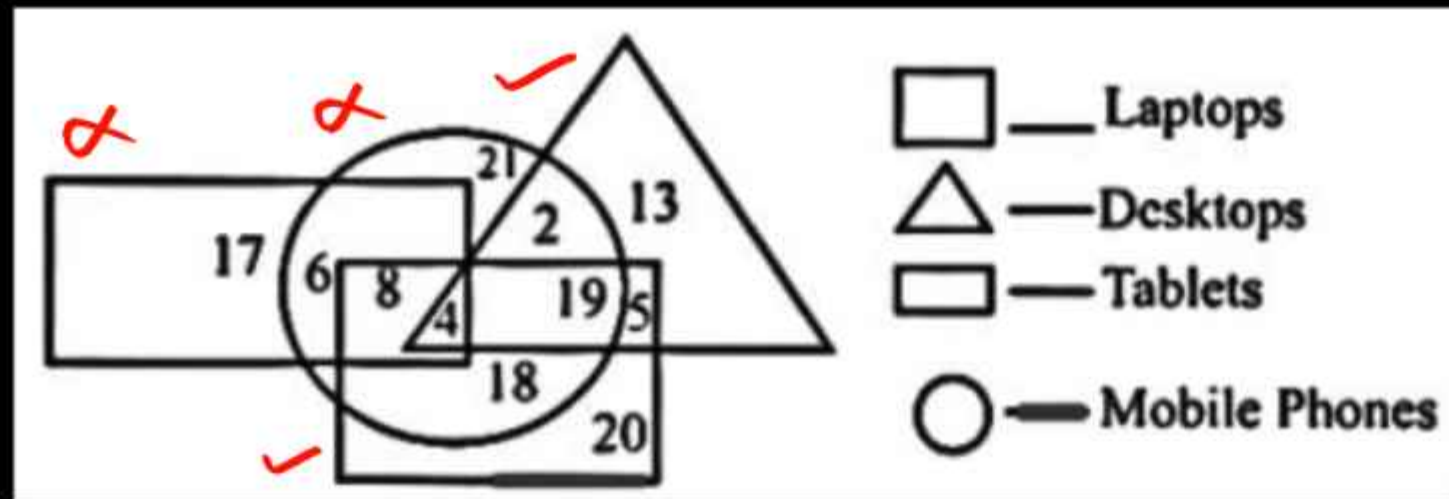
- (a) 11
- ✓ (b) 6
- (c) 7
- (d) 3



18. Which of the following numbers in the Venn diagram represents only desktops and laptops?

वेन आरेख में निम्नलिखित में से कौन सी संख्या केवल डेस्कटॉप और लैपटॉप को निरूपित करती है?

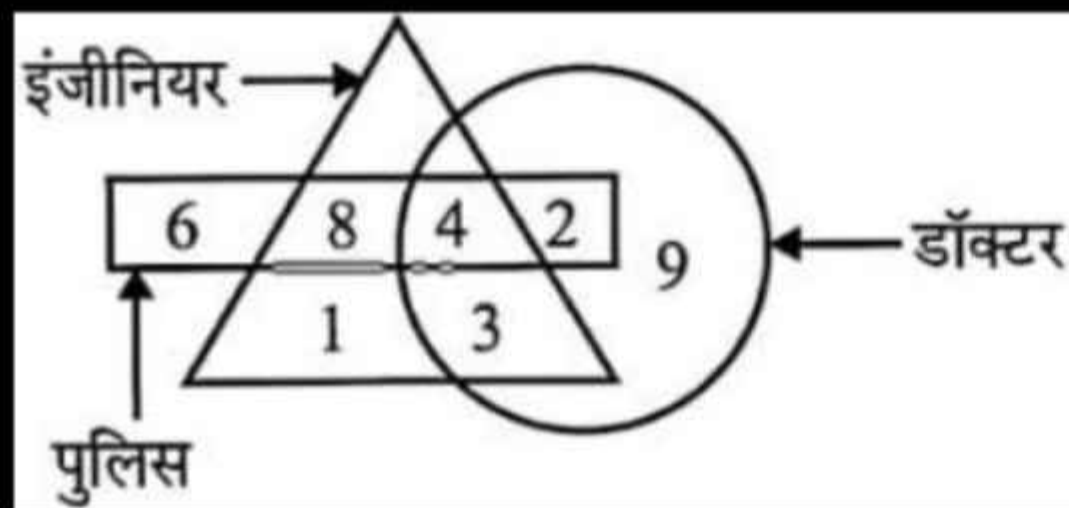
- (a) 2
- ✓ (b) 5
- (c) 19
- (d) 4



19. Which of the following numbers in the Venn diagram represents doctors, engineers and police?

वेन आरेख में निम्नलिखित में से कौन सी संख्या डॉक्टर, इंजीनियर और पुलिस को दर्शाती है?

- (a) 5
- ✓ (b) 4
- (c) 2
- (d) 9



20. Which of the following numbers in the Venn diagram represents only 'Biology, Chemistry and Mathematics'?

वेन आरेख में निम्नलिखित में से कौनसी संख्या केवल 'जैविकी, रासायनिकी और गणित' को दर्शाती है?

- (a) 13
- (b) 17
- ✓ (c) 11
- (d) 14

