

VENN DIAGRAM

❖ ठोस , द्रव , गैस



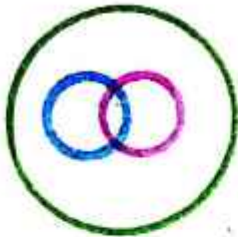
❖ घंटा , मिनट , सेकेंड




❖ उत्तर प्रदेश , मध्य प्रदेश , भारत



❖ माताएँ , बहनें , महिलाएँ




❖ सूर्य , तारा , शुक्र




❖ पिता , पुरुष , बच्चा



❖ पिता , पुरुष , डॉक्टर



❖ लाल , फूल , नारंगी



❖ लेखक , नर्तक , गायक




Ex:- • डॉक्टर , वकील , इंजीनियर



• डाक्टर , वकील , शिक्षक



• तौता , पक्षी , चमगादड़



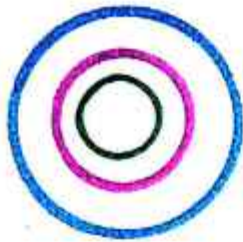
- यात्री , बस , ट्रेन



- Q) Select the Venn diagram that best represents the relationship among the following classes.

(उस वेन आरेख का चयन कीजिए जो निम्न वर्गों के संबंध का सर्वश्रेष्ठ निरूपण करता है।)

- 1) Mothers , Daughters , Women
(माताएँ , बेटियाँ , महिलाएँ)



- 2) Sea Animals , Shrimp , Walrus
(समुद्री जीव-जंतु , झींगा , वॉलरस)



- 3) Civics , Subject , Chemistry
(नागरिक शास्त्र , विषय , रसायन विज्ञान)



4) Yamuna, River, Narmada
(यमुना, नदी, नर्मदा)




5) Pumpkin, Spinach, Potato
(कद्दू, पालक, आलू)



6) Belt, Cap, Glove
(बेल्ट, टोपी, दस्ताना)



7) Pigeon, Bear, Bird
(कबूतर, भालू, पक्षी)



8) Living thing, Animals, Bird, Dogs.
(सजीव, जानवर, पक्षी, कुत्ते)



9) State, District, Colony
(राज्य, जिला, कॉलोनी)



10) Vehicle, Truck, Car
(वाहन, ट्रक, कार)

