



# SSC GD 2025



## अवसर बेच

# REASONING

# VENN DIAGRAM

**LIVE** 23-07-2024 10:00 AM



ठोस, द्रव, गैस



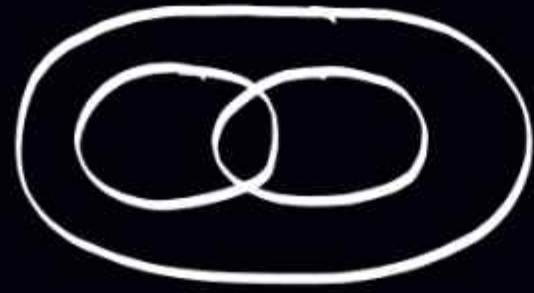
घंटा, मिन्ट, सेकण्ड




उ०पु०, म०पु०, भारत



मातारुँ, बटनें, महिलारुँ



सूर्य, तारा, शुक्र



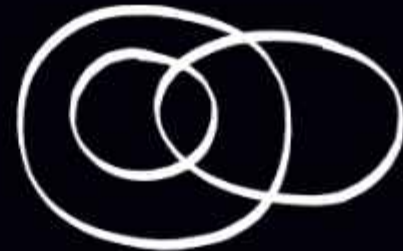
लाल, फूल, नाश्वरी



पिता, पुरुष, बच्चा



पिता, पुरुष, डाक्टर



लेखक, नर्तक, गायक



डाक्टर, वकील, इंजी०



धात्री, बस, ट्रेन



डाक्टर, वकील, शिक्षक



तौता, पक्षी, चमगादड़





1. Select the Venn diagram that best represents the relationship among the following classes.


Mothers, Daughters, Women


उस वेन आरेख का चयन कीजिए जो निम्न वर्गों के संबंध का सर्वश्रेष्ठ निरूपण करता है।


माताएं, बेटियाँ, महिलाएँ



(a) 

(b) 

(c) 

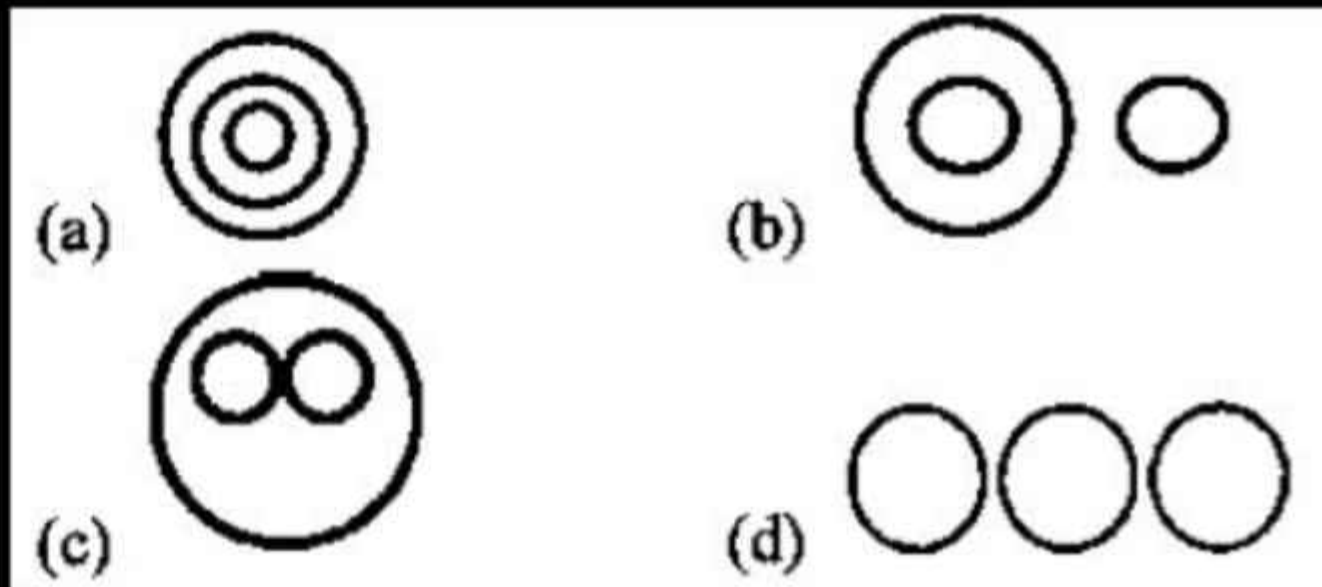
(d) 

2. Select the Venn diagram that best represents the relationship among the following classes.

Sea Animals, Shrimp, Walrus

उस वेन आरेख का चयन करें जो निम्नलिखित वर्गों के बीच संबंध को सर्वोत्तम ढंग से निरूपित करता है।

समुद्री जीव-जंतु, झींगा, वॉलरस

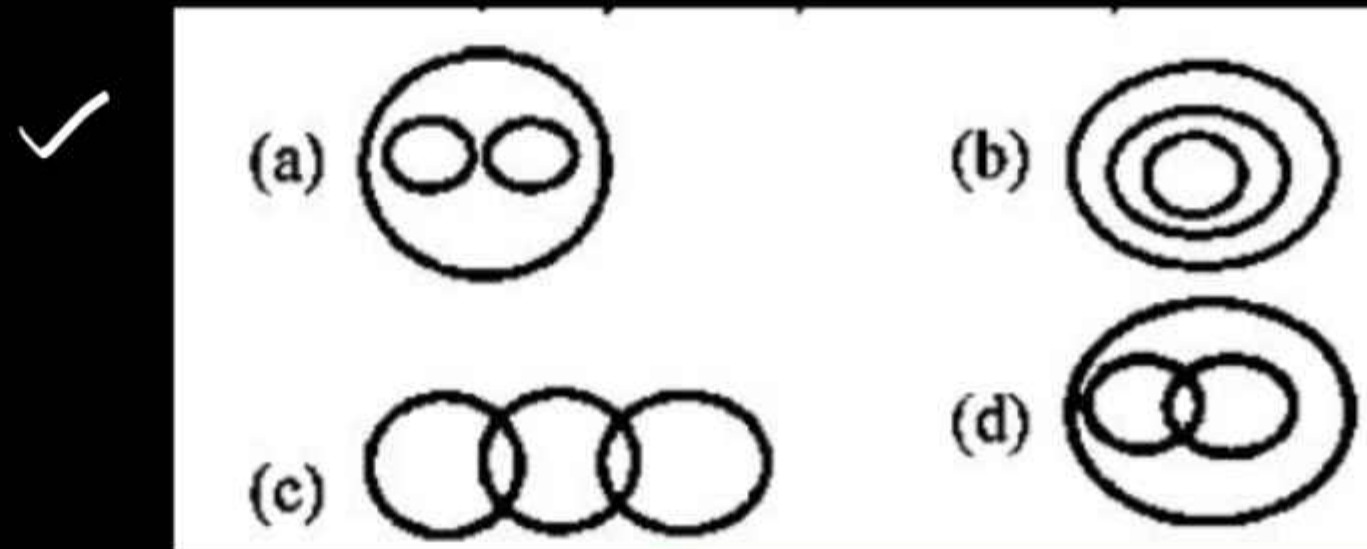


3. Select the Venn diagram that best represents the relationship among the following classes.

Civics, Subject, Chemistry

उस वेन आरेख का चयन करें, जो निम्नलिखित वर्गों के बीच के संबंध को सबसे अच्छे तरीके से दर्शाता है।

नागरिक शास्त्र, विषय, रसायन विज्ञान

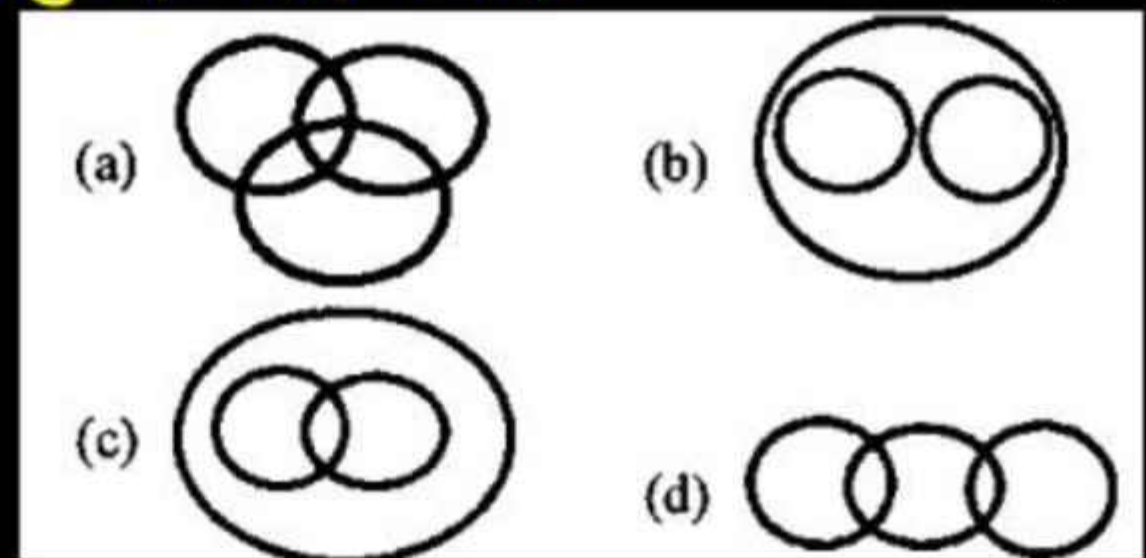


4. Select the Venn diagram that best represents the relationship among the following classes.

Yamuna, River, Narmada

उस वेन आरेख का चयन करें जो निम्नलिखित वर्गों के मध्य संबंधों को सर्वोत्तम तरीके से निरूपित करता है।

यमुना, नदी, नर्मदा

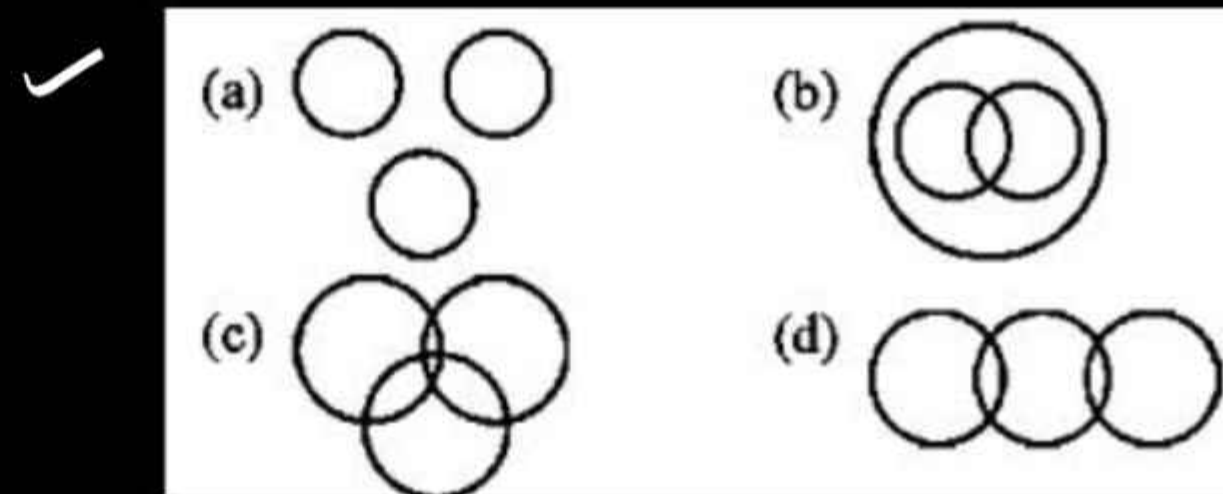


5. Select the Venn diagram that best represents the relationship among the following classes.

Pumpkin, Spinach, Potato

उस वेन आरेख का चयन करें जो निम्नलिखित वर्गों के मध्य संबंध को सर्वोत्तम तरीके से निरूपित करता है।

कद्दू, पालक, आलू

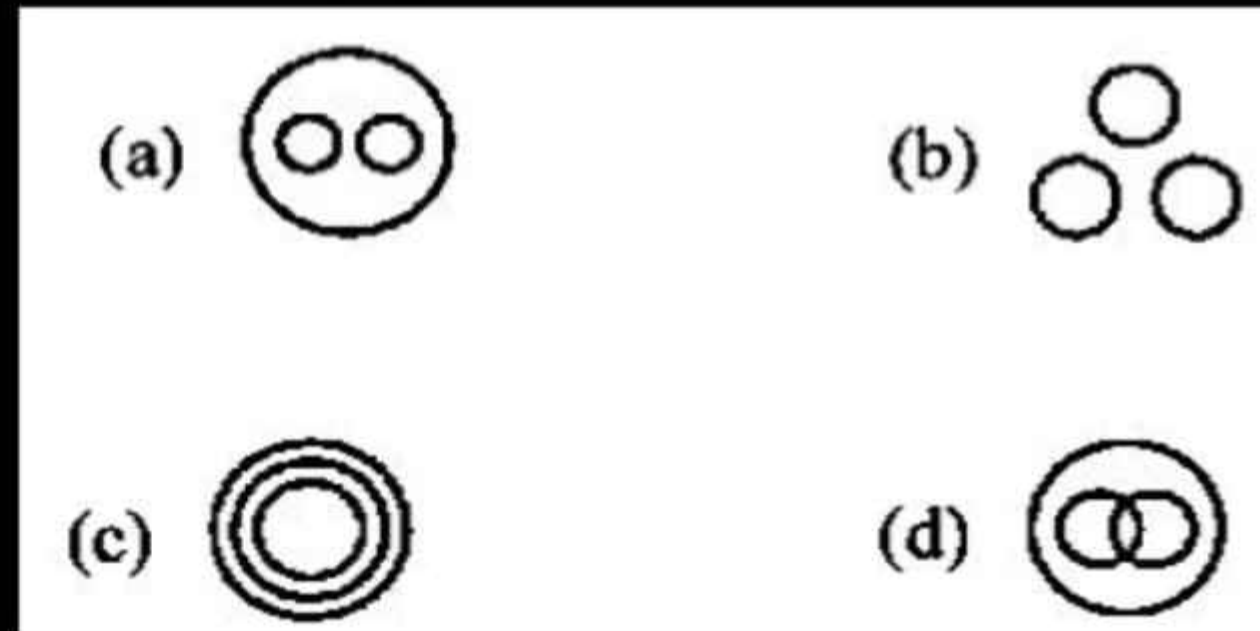


6. Select the Venn diagram that best represents the relationship among the following classes.

Belt, Cap, Glove

उस वेन आरेख का चयन कीजिए जो निम्न वर्गों के मध्य में संबंध का सर्वश्रेष्ठ निरूपण करता है।

बेल्ट, टोपी, दस्ताना ✓

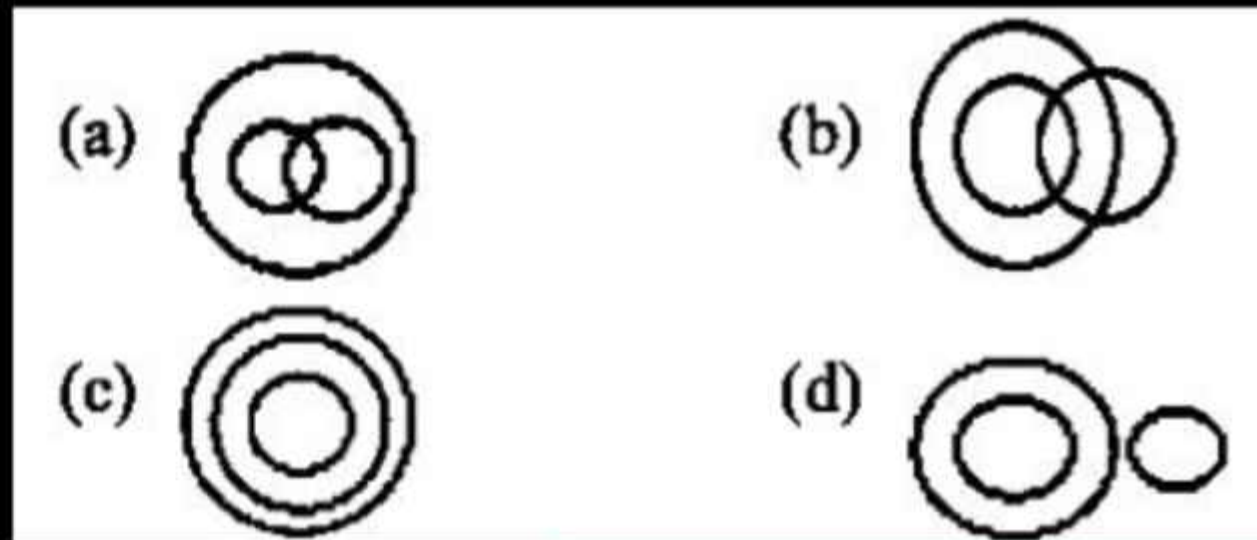



7. Select the Venn diagram that best represents the relationship among the following classes.

Pigeon, Bear, Bird

उस वेन आरेख का चयन करें, जो निम्नलिखित वर्गों के बीच के संबंध को सबसे अच्छे तरीके से दर्शाता है।

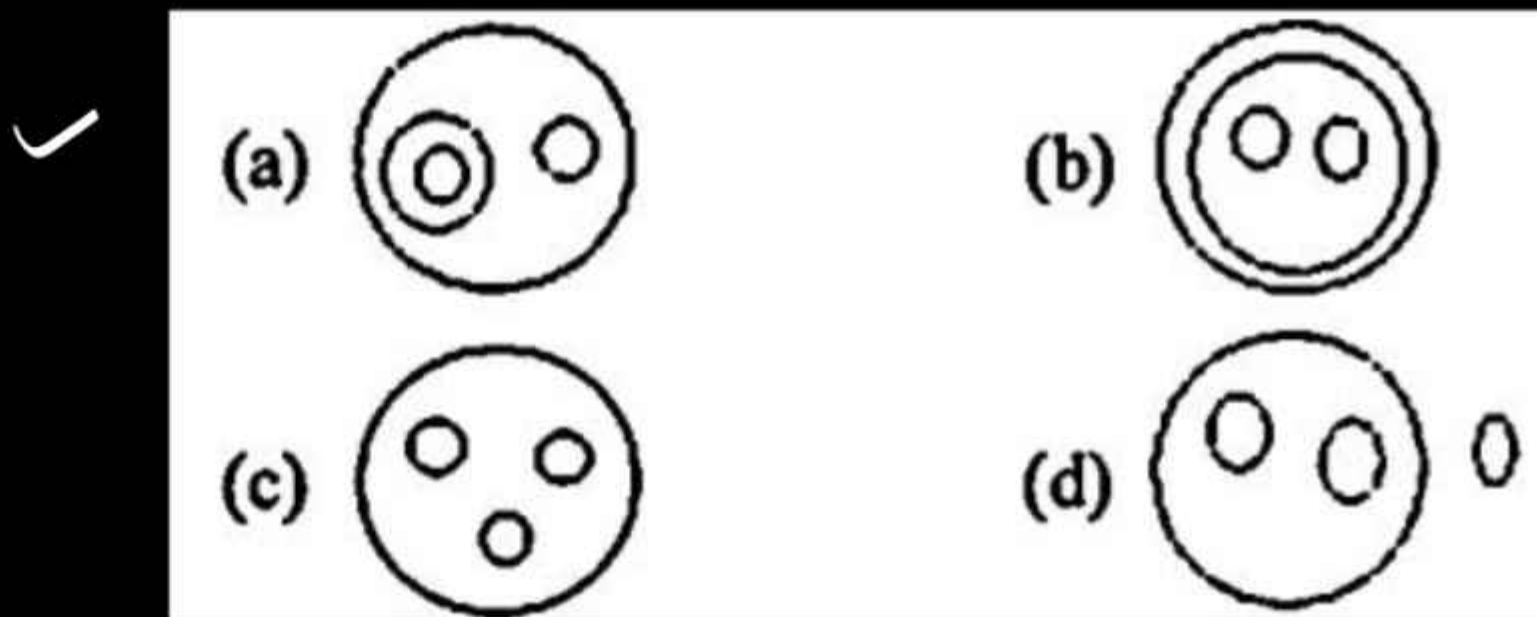
कबूतर, भालू, पक्षी



8. Select the Venn diagram that best represents the following classes

Animals, Animals, Birds, Dogs

उस वेन आरेख का चयन करें जो निम्नलिखित वर्गों का सही निरूपण करता हो  
सजीव, जानवर, पक्षी, कुत्ते




9. Select the Venn diagram that best represents the relationship between the following classes.

State, District, Colony


उस वेन आरेख का चयन करें, जो निम्नलिखित वर्गों के बीच के संबंध को सबसे अच्छे तरीके से दर्शाता है।

राज्य, जिला, कॉलोनी

(a)



(b)



(c)



(d)



10. Select the Venn diagram that best represents the relationship between the following classes.

Vehicle, Truck, Car

उस वेन आरेख का चयन कीजिए जो निम्न वर्गों के मध्य के संबंध का सर्वश्रेष्ठ निरूपण करता है।

वाहन, ट्रक, कार

