

Foundation Batch



REASONING

Venn Diagram

LIVE 13-07-2024 01:00PM



घंटा, मिनट, सेकेंड



उ० पु०, मं० पु०, भारत



ठोस, द्रव, गैस



सूर्य, तारा, ग्रह



पिता, पुरुष, बच्चे



पिता, पुरुष, शिक्षक



दूरा, नारंगी, फूल



माताएँ, बहनें, महिलाएँ

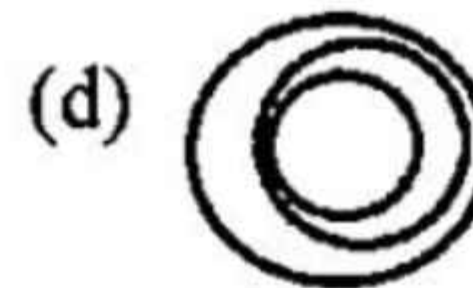




1. Select the Venn diagram that best represents the relationship between the following classes.

Months, Calendars, Days

उस वेन आरेख का चयन करें, जो निम्न वर्गों के बीच संबंध को सर्वोत्तम ढंग से निरूपित करता है।

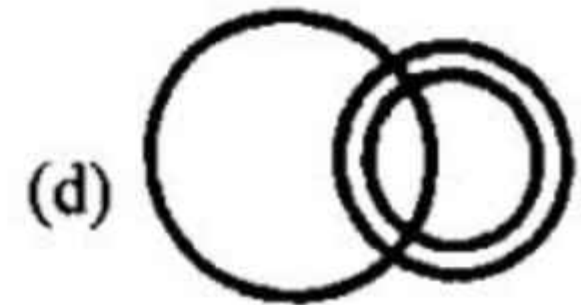
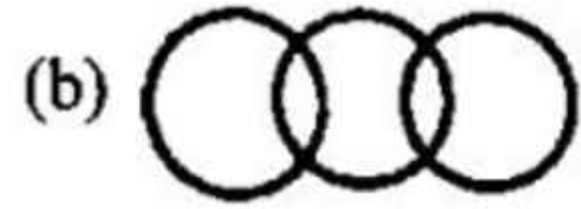
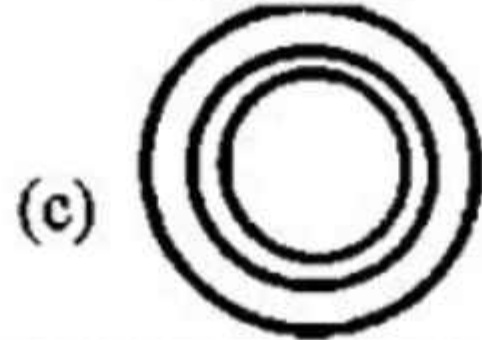

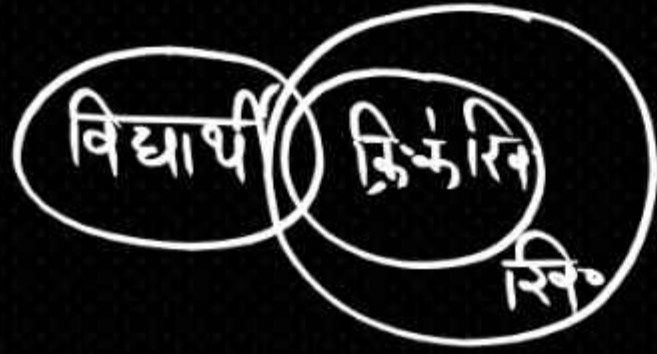
महीने, कैलेंडर, दिन



2. Select the Venn diagram that best represents the relationship between the following classes.

Students, Sportsmen, Cricket Players

उस वेन आरेख का चयन करें, जो निम्नलिखित वर्गों के बीच को सबसे अच्छे तरीके से दर्शाता है ।
विद्यार्थी, खिलाड़ी, क्रिकेट खिलाड़ी

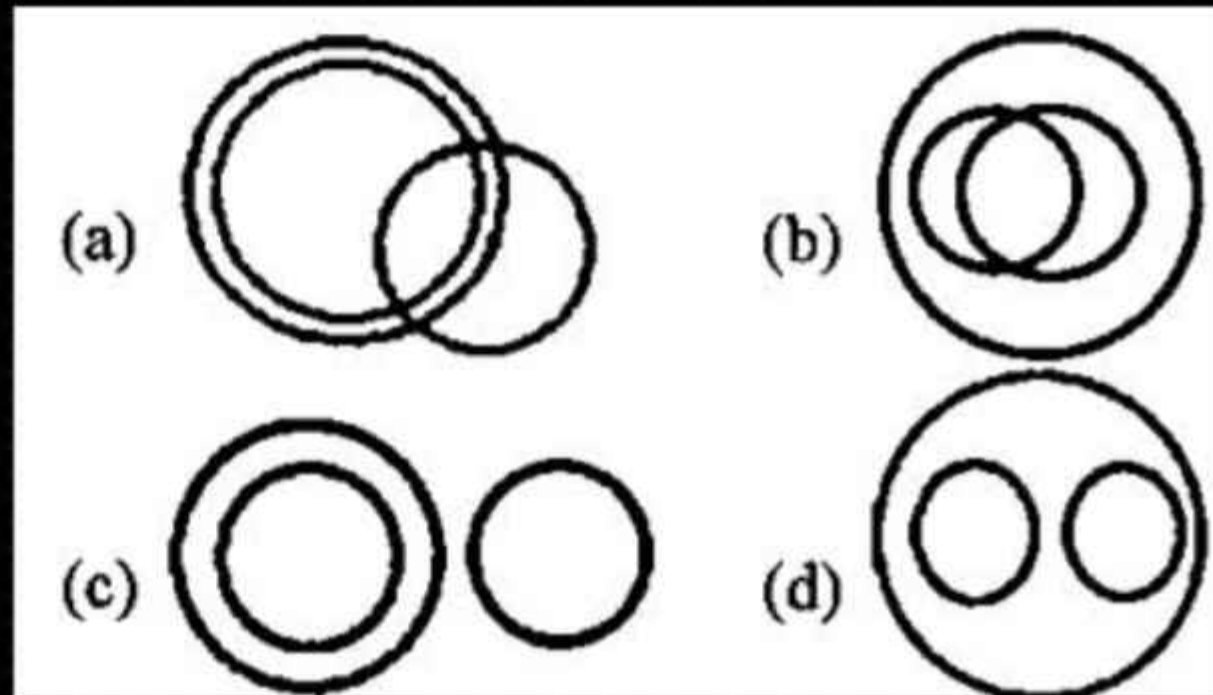
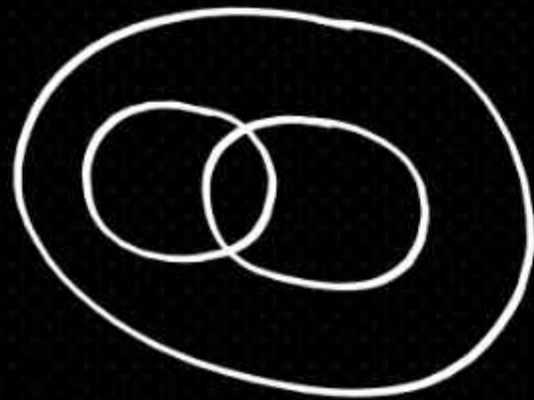


3. Select the Venn diagram that best represents the relationship between the following classes.

Earth, Forest, Tree

उस वेन आरेख का चयन करें, जो निम्नलिखित वर्गों के बीच के सबसे अच्छे तरीके से दर्शाता है ।

पृथ्वी, वन, वृक्ष

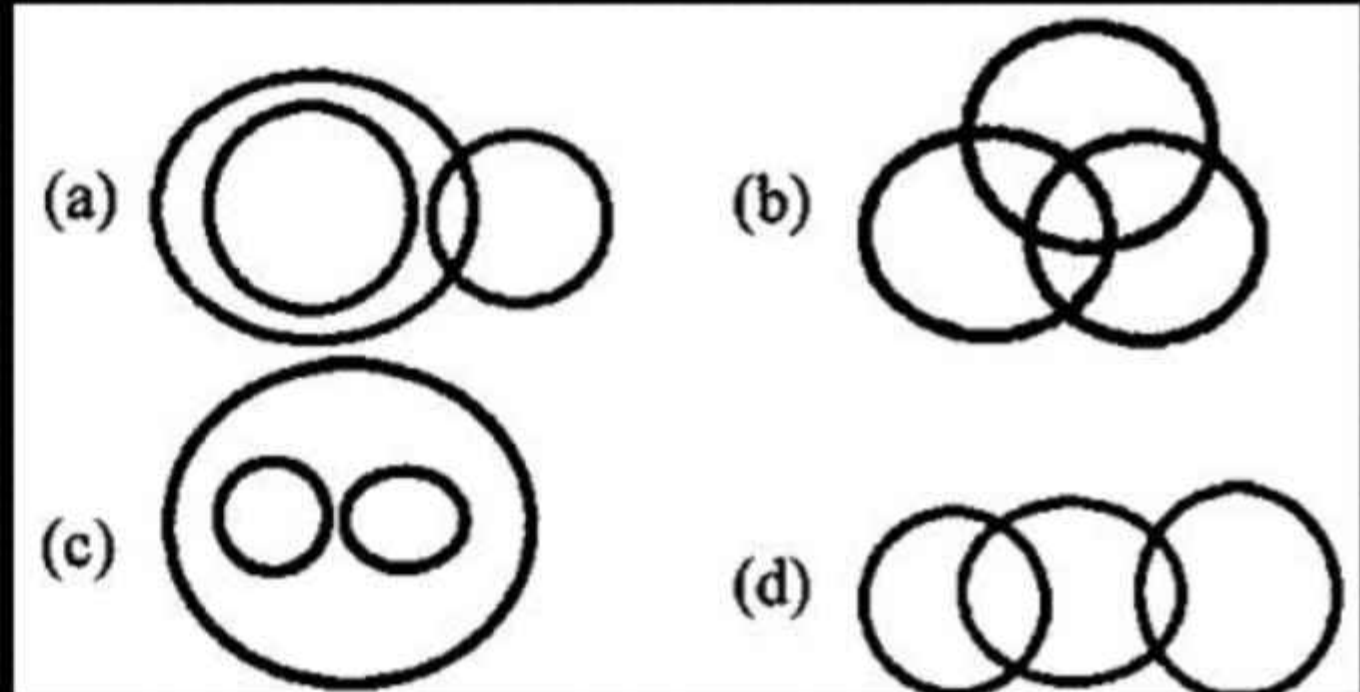



4. Select the Venn diagram that best represents the relationship between the following classes.

Telugu, Urdu, Poetry

उस वेन आरेख का चयन करें, जो निम्न वर्गों के बीच के संबंध को सर्वोत्तम ढंग से निरूपित करता है।

तेलुगू, उर्दू, काव्य

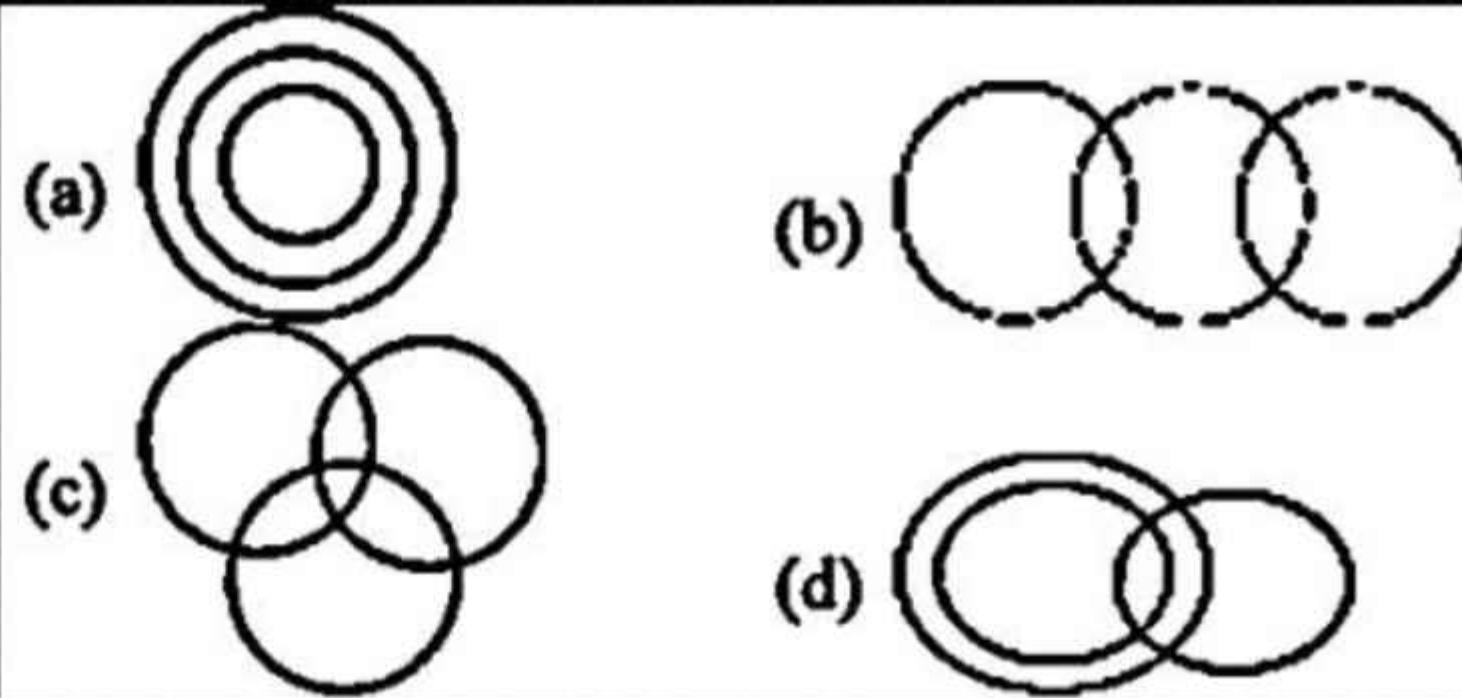



5. Select the Venn diagram that best represents the relationship between the following classes.

Men, Uncles, Educated

उस वेन आरेख का चयन करें, जो निम्न वर्गों के बीच के संबंध को सर्वोत्तम ढंग से निरूपित करता है।


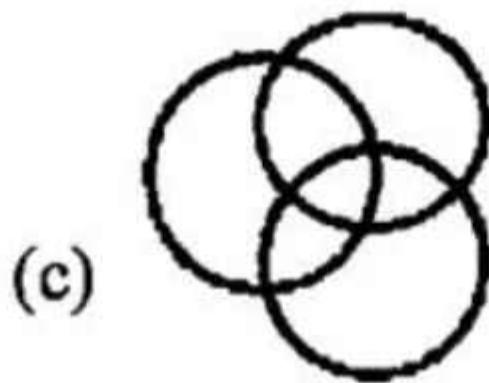


पुरुष, चाचा, शिक्षित



6. Select the Venn diagram that best represents the relationship between the following classes.

Kings, Queens, Mothers

उस वेन आरेख का चयन कीजिए जो निम्न वर्गों के मध्य का सर्वश्रेष्ठ निरूपण करता है।
राजाओं, रानियां, माताएं

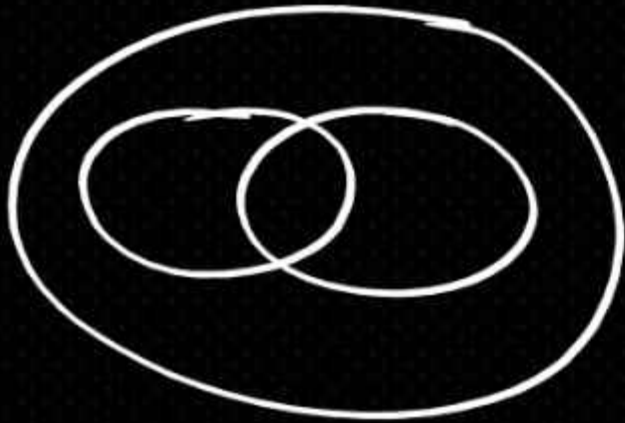


7. Select the Venn diagram that best represents the relationship between the following classes.


Women, Mothers, Sisters

उस वेन आरेख का चयन कीजिए जो निम्न वर्गों के मध्य संबंध का सर्वश्रेष्ठ निरूपण करता है।

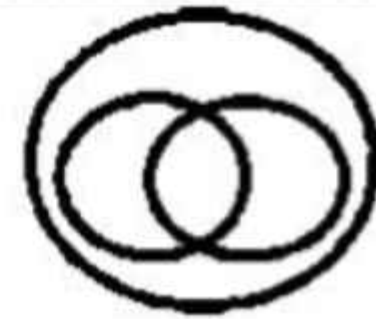
महिलाएँ, माताएँ, बहनें



(a)



(b)



(c)



(d)

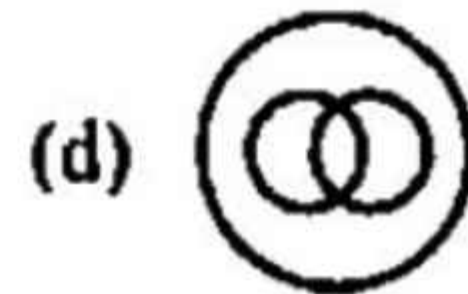
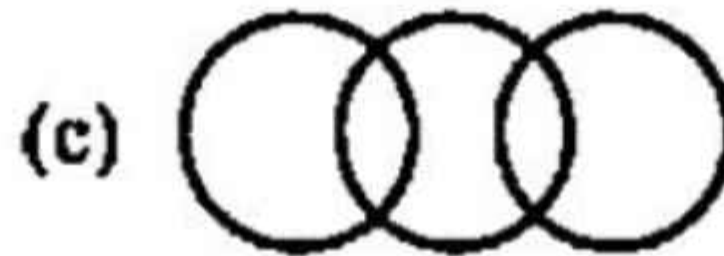


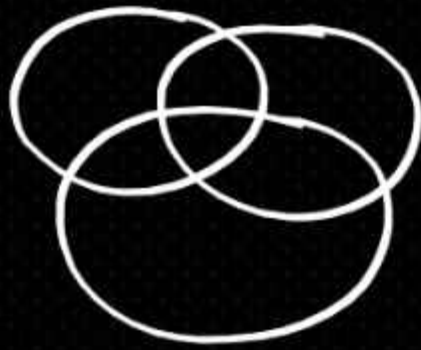


8. Select the Venn diagram that best represents the relationship between the following classes.

People with black hair, tall persons, weight lifters

उस वेन आरेख का चयन करें, जो निम्न वर्गों के बीच संबंध को सर्वोत्तम ढंग से निरूपित करता है।

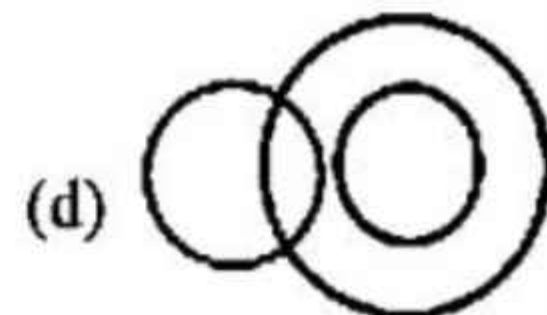
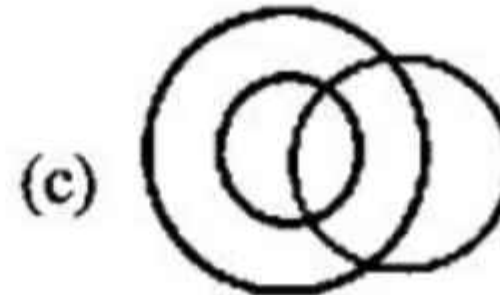
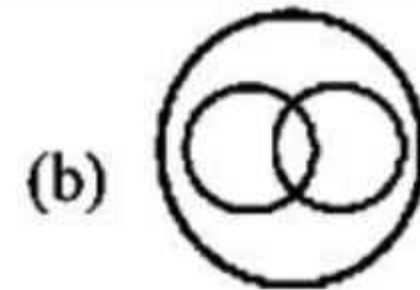
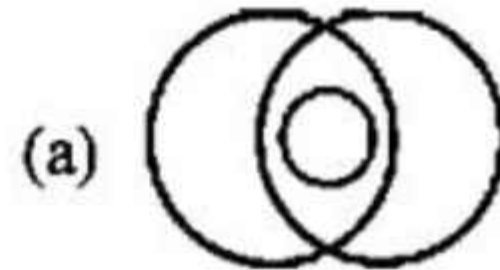
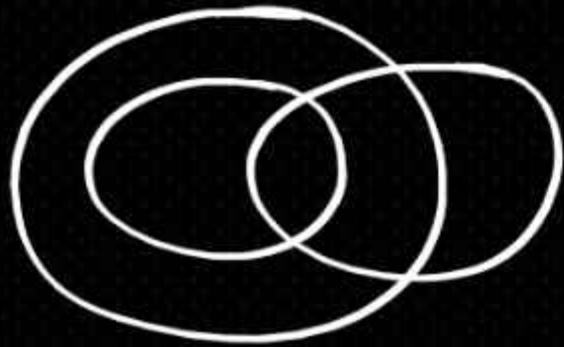
काले बालों वाले लोग, लंबे व्यक्ति, भारोत्तोलक



9. Select the Venn diagram that best represents the relationship between the following classes.

Women, Businessmen, Mothers

उस वेन आरेख का चयन करें, जो निम्न वर्गों के बीच संबंध को सर्वोत्तम ढंग से निरूपित करता है।
महिलाएं, व्यवसायी, माताएँ

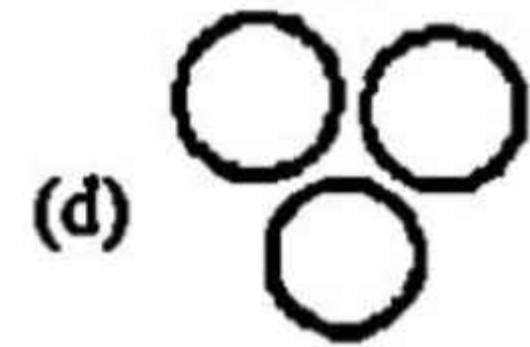
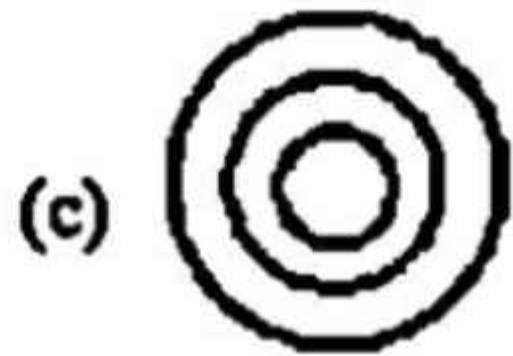
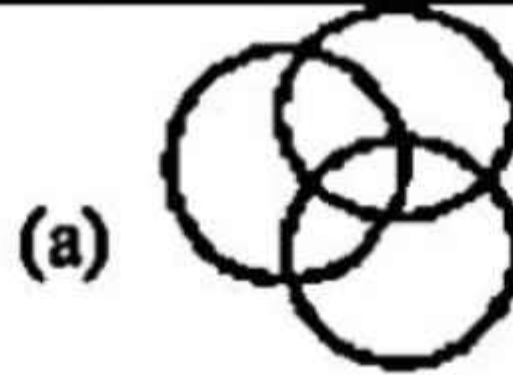



10. Select the Venn diagram that best represents the relationship between the following classes.

Animals, Cattle, Cows


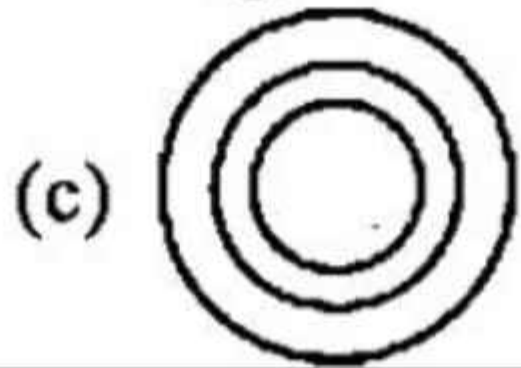
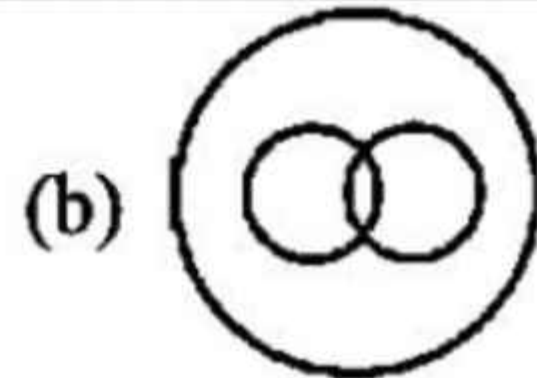
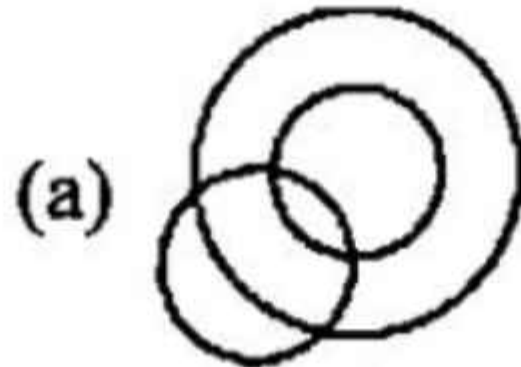

उस वेन आरेख का चयन करें, जो निम्न वर्गों के बीच संबंध को सर्वोत्तम ढंग से निरूपित करता है।


पशु, मवेशी, गाय



11. Select the Venn diagram that best represents the relationship between women, girls and brides.

उस वेन आरेख का चयन करें, जो महिलाओं, लड़कियों और दुल्हनों के बीच संबंध को सर्वोत्तम ढंग से निरूपित करता है।







12. Select the Venn diagram that best represents the relationship between the following classes.

Dirham, U.S. Dollar, Currency

उस वेन आरेख का चयन करें जो निम्नलिखित वर्गों के बीच संबंध को सर्वोत्तम ढंग से दर्शाता है।

दिरहम, यू.एस. डॉलर, मुद्रा





13. Select the Venn diagram that best represents the relationship between the following classes.

(A) Quadrilateral, (B) Rectangle, (C) Square
उस वेन आरेख का चयन करें जो निम्न वर्गों के बीच संबंधों को सर्वोत्तम ढंग से निरूपित करता है।

(A) चतुर्भुज, (B) आयत, (C) वर्ग

