

Foundation Batch



REASONING

(अब तक पढ़ाए का रिवीजन)

Part-10

LIVE

13-06-2024 12:15PM



1. Choose the correct option that shows the order of the following Indian rivers (from north to south).

निम्न भारतीय नदियों की क्रमबद्धता (उत्तर से दक्षिण) दर्शाने वाले सही विकल्प का चयन करें।

1. कावेरी

2. नर्मदा

4. गंगा

3. गोदावरी

5. कृष्णा

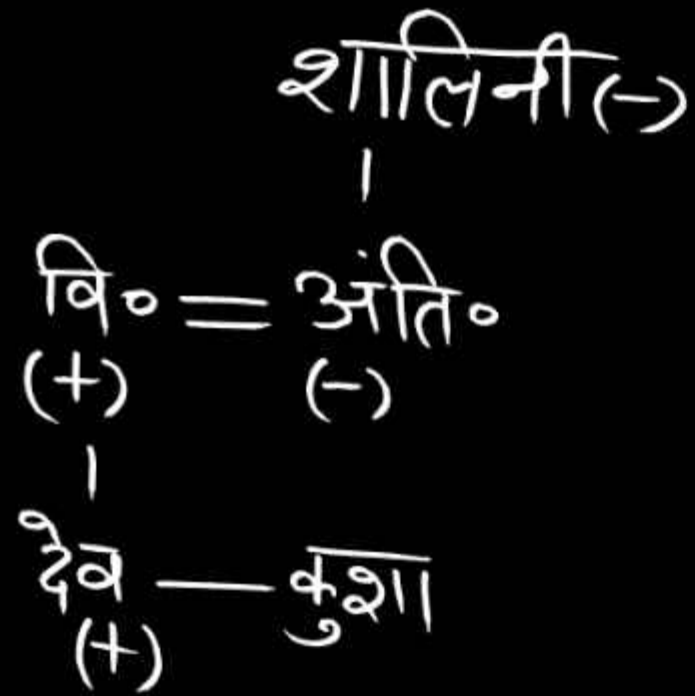
(a) 1-3-2-5-4

(b) 4-3-2-1-5

(c) 2-3-4-1-5

(d) 4-2-3-5-1

SSC MTS 12/10/2021 (Shift-II)



2. Vineet is the husband of Antima. Dev is the brother of Kusha. Shalini is the mother of Kusha's mother. Dev is the son of Vinit. Antima is related to Shalini?

विनीत, अंतिमा का पति है। देव, कुशा का भाई है। शालिनी, कुशा की माँ की माँ है। देव, विनीत का पुत्र है। अंतिमा का शालिनी से संबंध है?

- ✓ (a) बेटी (b) मामी
(c) माँ (d) बहन

SSC CHSL 12/04/2021 (Shift-II)

3. Choose the correct order of symbols to

balance the following equation

निम्न समीकरण को संतुलित करने के लिए
चिन्हों के सही क्रम चयन करें।

$$\begin{array}{l} 5 \times 6 + 5 \\ 35 \end{array}$$

$$20 \div 4 \times 6 + 5 = 35$$

✓ (a) $\div, \times, +$ और $=$

(b) $\times, \div, +$ और $=$

(c) $\div, \times, -$ और $=$

(d) $+, \times, \div$ और $=$

SSC Stenographer - 15/11/2021 : Shift-II

4. Naveen, Sapna, Alka, Jenny, Megan, Farhad and Bhavana are sitting in a row in a cinema hall. All of them are facing the screen which is towards east.

Sapna is at the extreme ends and her immediate neighbour is Megan. Jenny is to the right of Megan. Bhavana has Megan on one side and Farhad on the other. Alka is to the immediate right of Jenny who sits third from the south end.

Jenny is sitting exactly between which of the following pairs of people?

सपना
मेगन
जेनी
फरहाद
भावना
अलका
नवीन

नवीन, सपना, अलका, जेनी, मेगन, फरहाद और भावना सिनेमा हॉल में एक पंक्ति में बैठे हैं। उन सभी का मुख स्क्रीन की ओर है जो पूर्व की ओर है।

सपना चरम छोर पर है और उसका तत्काल पड़ोसी मेगन है। जेनी मेगन के दाहिने तरफ है। भावना के एक ओर मेगन और दूसरी ओर फरहाद है। अलका जेनी के तत्काल दाईं ओर है जो दक्षिण छोर से तीसरे स्थान पर बैठी है।

जेनी निम्नलिखित लोगों में से किस जोड़े के ठीक बीच में बैठी है?

- ✓ (a) फरहाद और अलका (b) मेगन और भावना
(c) नवीन और अलका (d) भावना और फरहाद

SSC CPO-SI - 12/12/2019 (Shift-II)

5. Four different positions of the same dice are shown. Select the number which will appear on the face opposite to the face with number 5.

एक ही पासे की चार अलग-अलग स्थितियाँ दिखाई गई हैं। उस संख्या का चयन करें, जो संख्या 5 वाले फलक के विपरीत फलक पर होगी?

1-6-4
X-3-5
2

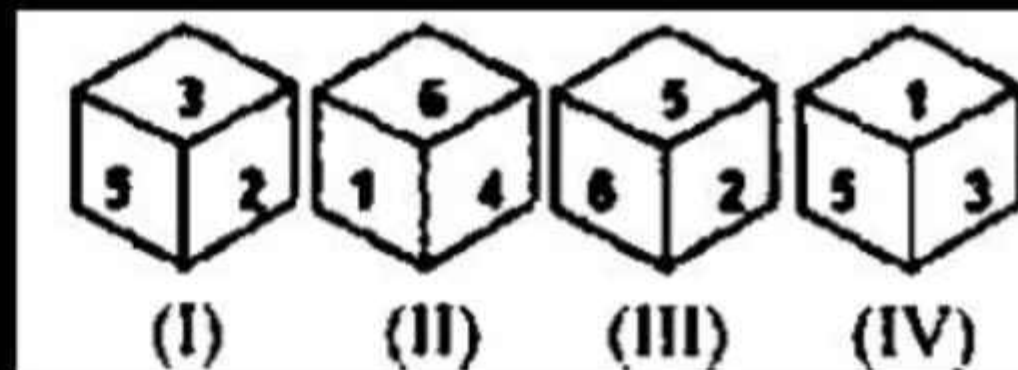
5-2-6
5-1-3
5

(a) 2

(b) 1

(c) 6

✓ (d) 4



SSC CHSL 14/10/2020 (Shift-II)



6. Joseph starts from his home towards his school. First he goes 2km towards west and then turns 90° in clockwise direction and walks 2km to reach his school. In which direction is his home from his school?

जोसेफ, अपने घर से अपने विद्यालय की ओर चलना शुरू करता है। पहले वह पश्चिम की ओर 2km जाता है और फिर दक्षिणावर्त दिशा में 90° मुड़ता है और अपने विद्यालय तक पहुंचने के लिए 2km चलता है। उसके विद्यालय से उसका घर किस दिशा में है?

- (a) उत्तर-पश्चिम (b) दक्षिण
✓ (c) दक्षिण-पूर्व (d) उत्तर

7. Choose the correct option which represents the correct order of the given words in the order in which they appear in the English dictionary.

उस सही विकल्प का चयन कीजिए, जो दिए गए शब्दों के उस सही क्रम को दर्शाता है, जिस क्रम में वे अंग्रेजी शब्दकोश में मौजूद होते हैं।

246531

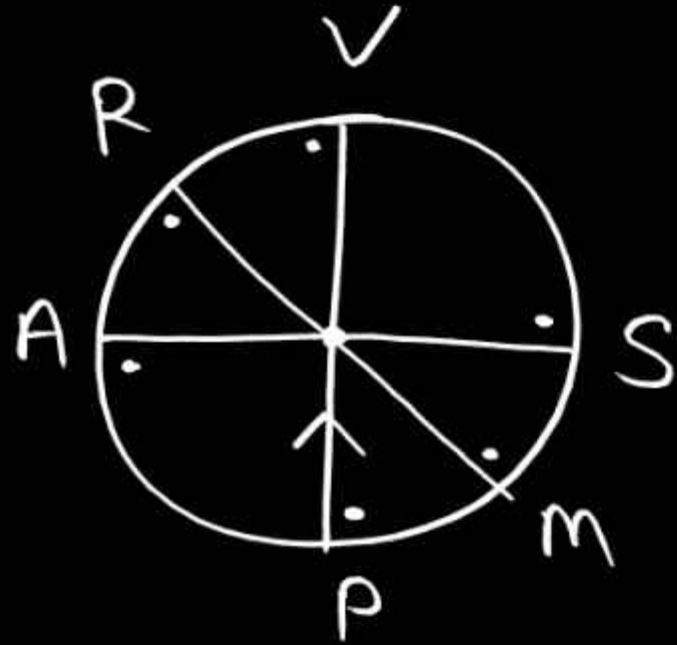
- | | |
|------------------------------|------------------------------|
| ①. Unaware ²³ | ②. Unable ² |
| ③. Unavoidable ²² | ④. Unacceptable ³ |
| ⑤. Unanimous ¹⁴ | ⑥. Unaffected ⁶ |

- ✓ (a) 2, 4, 6, 5, 3, 1 (b) 2, 4, 6, 5, 1, 3
 (c) 2, 4, 5, 6, 3, 1 (d) 4, 2, 6, 5, 3, 1

SSC JE Civil 09/10/2023 (Shift-I)

8. Raghav, Manpreet, Sunaina, Prakrit, Vedika and Arava are seated around a round table facing its centre. Raghav is second to the left of Prakrit. Manpreet is sitting immediately next to the left of Sunaina. Arava is second to the right of Vedika. There are equal number of persons between Raghav and Manpreet from both the ends. Who is sitting third to the left of Sunaina?

Foundation Batch REASONING अब तक पढ़ाए का रिवीजन

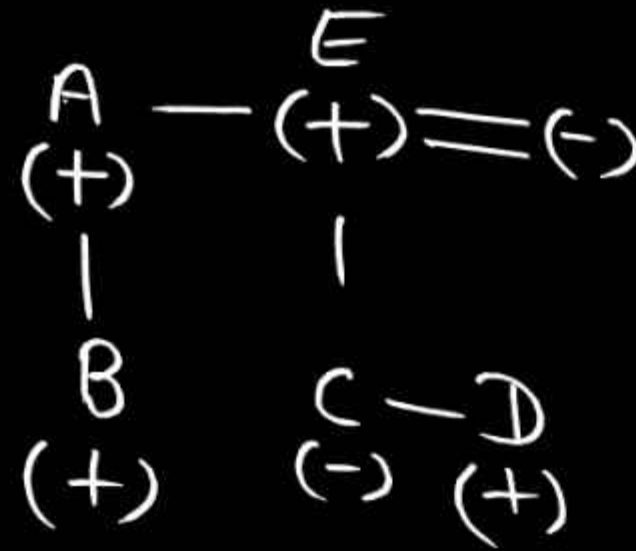


राघव, मनप्रीत, सुनैना, प्राकृत, वेदिका और अरवा एक गोल मेज के परितः इसके केंद्र की ओर मुख करके बैठे हैं। राघव, प्राकृत के बाएं दूसरे स्थान पर है। मनप्रीत, सुनैना की बायीं ओर ठीक बगल में बैठा है। अरवा, वेदिका के दायें दूसरे स्थान पर है। राघव और मनप्रीत के बीच दोनों छोर से समान संख्या में व्यक्ति है। सुनैना के बायें तीसरे स्थान पर कौन बैठा है?

- ✓ (a) अरवा (b) वेदिका
(c) राघव (d) प्राकृत

SSC CGL 2021: 19/04/2022 (Shift-II)

9. B and D are cousins. A is the father of B and uncle of C, who is the sister of D. C's mother is married to E, who is the brother of A. How is B related to C's father?



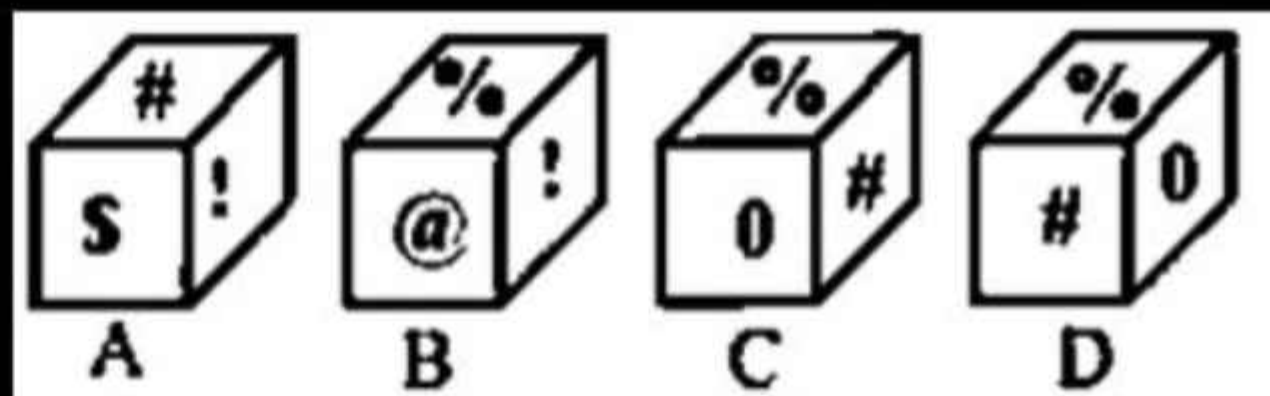
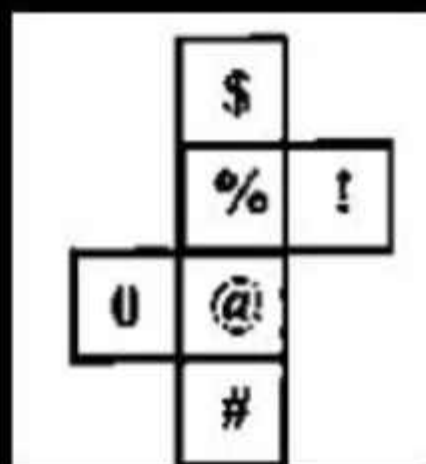
B और D चचेरे भाई हैं। A, B का पिता है और C का चाचा है, जो D की बहन है। C की माँ E से विवाहित है, जो A का भाई है। B, C के पिता से किस प्रकार संबंधित है?

- (a) पुत्र (b) बहनोई
(c) चाचा ✓ (d) भतीजा

SSC CHSL 15/04/2021 (Shift-II)

10. Select the dice(s) that can be formed by folding the given sheet along the lines marked on it.

उस / उन पासे / पासों का चयन करें जिसे / जिन्हें दिए गए पत्रक (sheet) को उस पर बनी रेखाओं पर मोड़ कर बनाया जा सकता है।



- (a) A, B, C और D (b) केवल D
✓ (c) केवल A और B (d) केवल C और D

SSC GD - 01/12/2021 : Shift-II