

Foundation Batch



REASONING

अब तक पढ़ाए का रिवीजन

Part -3

LIVE 04-06-2024 12:15PM



5, 1, 3, 6, 2, 4

1. Choose the correct option that indicates the arrangement of the following words in a logical and meaningful order.

उस सही विकल्प का चयन कीजिए, जो निम्नलिखित शब्दों की व्यवस्था को तार्किक और अर्थपूर्ण क्रम में दर्शाता है।

1. घुटना

2. गर्दन

3. जाँघ

4. सिर

5. पैर की अंगुली

6. कमर

✓ (a) 5, 1, 3, 6, 2, 4

(b) 5, 1, 6, 3, 2, 4

(c) 5, 1, 3, 6, 4, 2

(d) 5, 3, 1, 6, 2, 4

Foundation Batch REASONING अब तक पढ़ाए का रिवीजन

2. Looking at the photograph of a lady, Samuel said, "She is the mother of the daughter of my father's brother." How is Samuel related to the lady in the photograph?

एक महिला की तस्वीर की ओर देखते हुए सैमुअल ने कहा, "वह मेरे पिता के भाई की पुत्री की माता है। " तस्वीर में दिख रही महिला से सैमुअल किस प्रकार संबंधित है?

- (a) भाई
- (b) देवर
- ✓ (c) पति के भाई का पुत्र
- (d) पुत्र

SSC CGL (Tier-I) 26/07/2023 (Shift-II)

$$(81 \div 9) \times 3 + 3$$

30

3. If A means '+', B means '×', C means '-' and D means '÷' then what will come in place of question mark in the following equation ?

यदि A का अर्थ '+' है B का अर्थ '×' है, C का अर्थ '-' है और D का अर्थ '÷' है तो निम्नलिखित समीकरण में प्रश्न चिन्ह के स्थान पर क्या आएगा?

$$(81D9) B3A3 = 3B?$$

(a) 15 (b) 30

(c) 20 ✓(d) 10

SSC JE Civil 11/10/2023 (Shift-I)

Left ↑ Right

A D G E F B C

4. Seven persons A, B, C, D, E, F and G are sitting in a straight row facing north. Only 1 person is sitting to the left of D. A is sitting right next to D. Only 2 persons are sitting between F and D. Only 3 persons are seated between C and G. B is not seated immediately next to G. Only 2 persons are seated between E and A. Who is seated immediately next to the right of F?

सात व्यक्ति A, B, C, D, E, F और G उत्तर की ओर मुख करके एक सीधी पंक्ति में बैठे हैं। D के बाईं ओर केवल 1 व्यक्ति बैठा है। A, D के ठीक बगल में बैठा है। F और D के बीच में केवल 2 व्यक्ति बैठे हैं। C और G के बीच में केवल 3 व्यक्ति बैठे हैं। B, G के ठीक बगल में नहीं बैठा है। E और A के बीच में केवल 2 व्यक्ति बैठे हैं। F के दाईं ओर ठीक बगल में कौन बैठा है?

- ✓ (a) B (b) C
(c) A (d) E

SSC JE Mechanical 09/10/2023 (Shift-II)

24153

5. Select the option that represents the correct order of the given words as they appear in the English dictionary.
 उस विकल्प का चयन कीजिए जो दिए गए शब्दों के उस सही क्रम को निरूपित करता है जिस क्रम में वे अंग्रेजी शब्दकोश में आते हैं।

- | | |
|---------------------------------------|--|
| ① Labial ⁹¹ | ② Labefaction ⁵⁶ |
| ③ Laboratory ¹⁵ | ④ Label ⁵¹² |
| ⑤ Labile ⁹¹² | |

- | | |
|---------------------|-------------------|
| (a) 2, 4, 5, 1, 3 | (b) 4, 2, 1, 5, 3 |
| ✓ (c) 2, 4, 1, 5, 3 | (d) 4, 2, 5, 1, 3 |

Foundation Batch REASONING अब तक पढ़ाए का रिवीजन

6. If 15th January 1996 is Monday, then what day of the week will be on 30th March 1997?

यदि 15 जनवरी 1996 को सोमवार है, तो 30 मार्च 1997 को सप्ताह का कौन-सा दिन होगा?

- (a) सोमवार
- (b) मंगलवार
- ✓ (c) रविवार
- (d) बुधवार

SSC CHSL (Tier-I) 08/08/2023 (Shift-II)

15 Jan 1996 - Mon. +2
15 Jan 1997 - Wed.

15 Jan 1997 - Wed. +4
30 March 1997 - ?

Jan 31 - 15 - +16 2
Feb 28 0
Mar 30 2

Foundation Batch REASONING अब तक पढ़ाए का रिवीजन

अव(-)
|
भा० - छवि = ध्रुव
(-) (-) (+)
|
ईशा

7. Bharti is the sister of Chhabi. Avni is the mother of Bharti. Chhabi is the wife of Dhruv. Dhruv is the father of Isha. Who is the maternal grandmother of Isha?

भारती छवि की बहन है। अवनि भारती की माँ है। छवि ध्रुव की पत्नी हैं। ध्रुव ईशा का पिता है। ईशा की नानी कौन है?

- (a) ध्रुव ✓ (b) अवनि
(c) छवि (d) भारती

SSC CHSL (Tier-I) 16/03/2023 (Shift-I)

Foundation Batch REASONING अब तक पढ़ाए का रिवीजन

8. Which two numbers should be interchanged to make the given equation correct?

दिए गए समीकरण को सही करने के लिए किन दो संख्याओं को आपस में बदला जाना चाहिए?

$$15 - 24 + 63 \div 7 \times 2 = 24$$

(a) 63 और 9

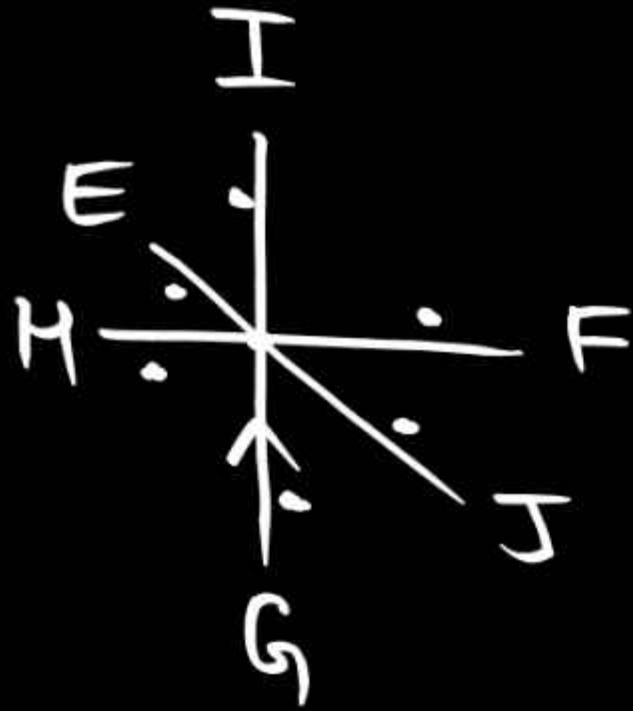
✓ (b) 24 और 9

(c) 7 और 63

(d) 63 और 24

SSC MTS 19/05/2023 (Shift-III)

$$\begin{aligned} 15 - 9 + 9 \times 2 \\ 15 - 9 + 18 \\ 33 - 9 \\ 24 \end{aligned}$$



9. Six students E, F, G, H, I and J are sitting around a circular table facing the centre. H is sitting immediately next to both E and G. I is sitting immediately next to both E and G. I is sitting third to the left of G. E sits second to the right of F. J sits right next to both F and G. Who sits between G and F?

छ: छात्र E, F, G, H, I और J एक वृत्ताकार मेज के परितः केन्द्र की ओर मुख करके बैठे हैं। H, E और G दोनों के ठीक बगल में बैठा है। I, G के बाईं ओर तीसरे स्थान पर बैठा है। E, F के दाईं ओर दूसरे स्थान पर बैठा है। J, F और G दोनों के ठीक बगल में बैठा है। G और F के बीच कौन बैठा है?

(a) E

(b) H

✓ (c) J

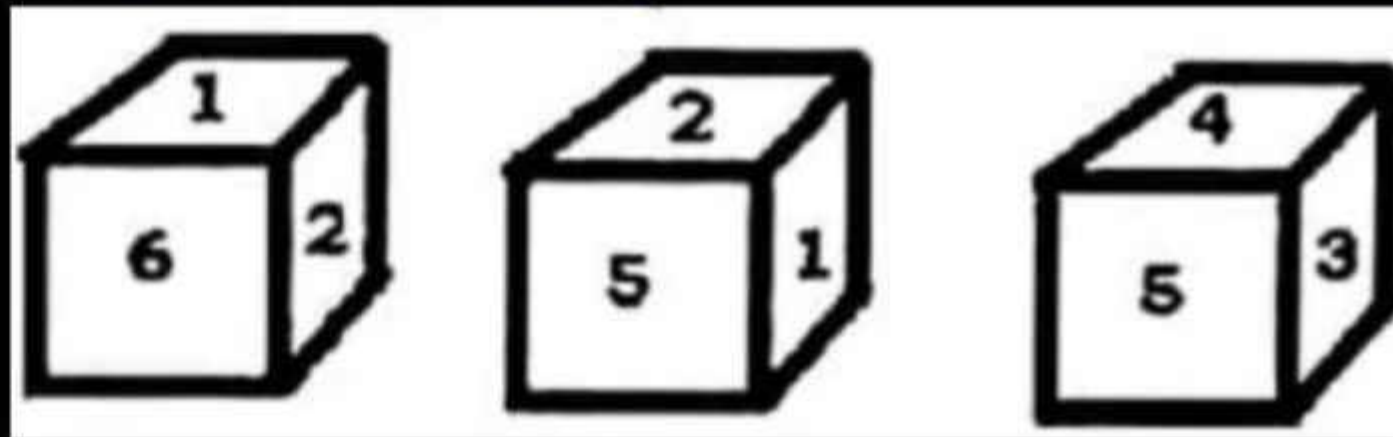
(d) I

Foundation Batch REASONING अब तक पढ़ाए का रिवीजन

5-2-1
4-4-3
6

10. Three different positions of the same dice are shown below. Select the number which is on the face opposite to the face having number '1'.

नीचे एक ही पासे की तीन भिन्न स्थितियाँ दर्शाई गई हैं। उस संख्या का चयन करें जो संख्या '1' वाले फलक के विपरीत फलक पर है।



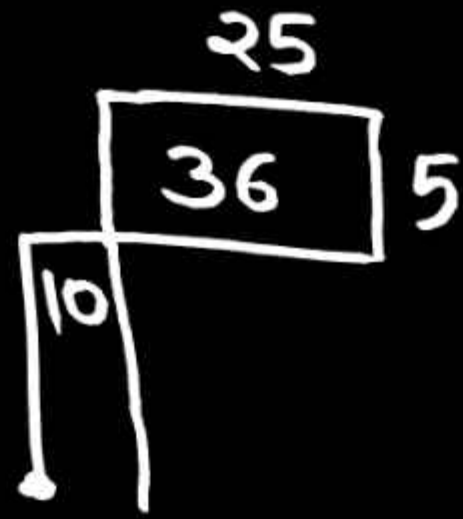
(a) 4

✓ (b) 3

(c) 6

(d) 5

SSC GD 29/11/2021 : Shift-III



11. Peter leaves his house, and walks 10m towards north, and then turns right, and walks 36m. He turns left, and walks 5m. Now he again turns left, and walks 25m, and stops. A pole is placed exactly 15 m south of where he is standing. How far and in which direction is his house from that pole? (Assuming that all the turns are 90 degree turns only.)

पीटर अपने घर से प्रस्थान करता है, और उत्तर की ओर 10m चलता है, और फिर दाएं मुड़ता है, और 36 m चलता है। वह बाएं मुड़ता है, और 5m चलता है। अब वह फिर से बाएं मुड़ता है, और 25m चलता है, और रुक जाता है। जहाँ वह खड़ा है, वहाँ से ठीक 15 m दक्षिण में एक खंभा स्थापित है। उसका घर उस खंभे से कितनी दूर और किस दिशा में है? (यह मानते हुए कि सभी मोड़ केवल 90 डिग्री वाले मोड़ हैं।)

- ✓ (a) 11 मी, पश्चिम (b) 20 मी, पूर्व
(c) 10 मी, पूर्व (d) 21 मी, पश्चिम

SSC JE Mechanical 09/10/2023 (Shift-II)

Foundation Batch REASONING अब तक पढ़ाए का रिवीजन

12. What should come in place of the question mark '?' in the given series?
दी गई श्रृंखला में प्रश्न चिह्न '?' के स्थान पर क्या आना चाहिए?

10, 59, 353, ?, 12701, 76205, 457229

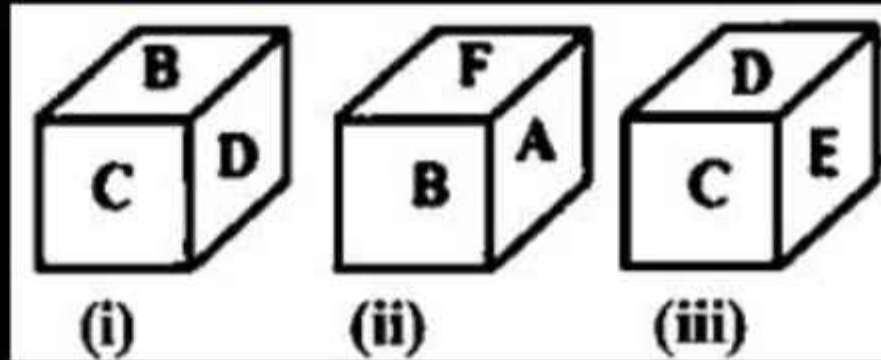
- ✓ (a) 2117
- (b) 2073
- (c) 2149
- (d) 2247

SSC MTS 12/09/2023 (Shift-I)

Foundation Batch REASONING अब तक पढ़ाए का रिवीजन

13. Three positions of the same dice are given. What will be the letter on the face opposite to the face having letter A?

एक ही पासे की तीन स्थितियाँ दी गई हैं। A अक्षर वाले फलक के विपरीत वाले फलक पर कौन-सा अक्षर होगा?



(a) D

✓ (b) C

(c) E

(d) F

SSC JE Civil 10/10/2023 (Shift-I)



14. The houses of five persons A, B, C, D and E are situated in such a way that A's house is situated at a distance of 60m to the north of E's house. D's house is situated at a distance of 30m to the west of E. B's house is situated at a distance of 60m to the north of C's house. C's house is situated at a distance of 30m to the west of D's house. In which direction is B's house situated from A's house?

पांच व्यक्ति A, B, C, D और E के घर इस प्रकार स्थित हैं कि A का घर E के घर के उत्तर में 60m की दूरी पर स्थित है। D का घर E के पश्चिम में 30m की दूरी पर स्थित है। B का घर C के घर के उत्तर में 60m की दूरी पर स्थित है। C का घर D के घर के पश्चिम 30 m में की दूरी पर स्थित है। A के घर से B का घर किस दिशा में स्थित है?

- | | |
|--------------|-----------|
| (a) दक्षिण | (b) उत्तर |
| ✓ (c) पश्चिम | (d) पूर्व |

SSC Stenographer - 12/11/2021: Shift-I

Foundation Batch REASONING अब तक पढ़ाए का रिवीजन

२ June 1995 - Fri + २
२ June 1996 - Sun

१ June

15. If 2 June 1995 is Friday, then what day of the week will be 16 June 1996?

यदि 2 जून 1995 को शुक्रवार है, तो 16 जून 1996 को सप्ताह का कौन - सा दिन होगा?

- (a) सोमवार
- (b) मंगलवार
- (c) बुधवार
- ✓ (d) रविवार

SSC CHSL (Tier-I) 17/08/2023 (Shift-II)

Foundation Batch REASONING अब तक पढ़ाए का रिवीजन

16. Select the option which best arranges the given words in the correct order in a logical and meaningful manner.

उस विकल्प का चयन कीजिए जो दिए गए शब्दों को तार्किक और सार्थक ढंग से सही क्रम व्यवस्था में दर्शाता है।

3, 1, 2, 4, 5

1. महीना

2. दिन

3. वर्ष

4. घंटा

5. मिनट

(a) 3, 1, 2, 5, 4

✓ (b) 3, 1, 2, 4, 5

(c) 3, 2, 1, 4, 5

(d) 3, 4, 2, 1, 5

SSC Selection Posts XI - 27/06/2023 (Shift-I)

Foundation Batch REASONING अब तक पढ़ाए का रिवीजन

Z—A

L 20 L 11 (-)

9—I विपरीत
R

17. If English alphabet is written in backward order, then what will be the eleventh letter to the left of the twentieth letter from left?

यदि अंग्रेजी वर्णमाला को विपरीत क्रम में लिखा जाए, तो बाएँ से बीसवें अक्षर के बाएँ ग्यारहवाँ अक्षर कौन-सा होगा?

(a) T

(b) S

✓(c) R

(d) Q

18. In this question, relationship between different elements is shown in the statement. This statement is followed by two conclusions.

इस प्रश्न में, कथन में विभिन्न तत्वों के बीच संबंध दर्शाया गया है। इस कथन के बाद दो निष्कर्ष दिए गए हैं।

कथन :/ Statement :

$$F < U \leq N = C < T = I > O \geq R$$

निष्कर्ष :/ Conclusions:

✓ I. $F < N$ ($< <$)

II. $I \geq R$

- ✓ (a) Only conclusion I follows/ केवल निष्कर्ष I अनुसरण करता है।
(b) Only conclusion II follows/ केवल निष्कर्ष II अनुसरण करता है।
(c) Either I or II follows / या तो निष्कर्ष I या निष्कर्ष II अनुसरण करता है।
(d) Neither I nor II follows / न ही निष्कर्ष I और न निष्कर्ष II अनुसरण करता है।

(UPSI 15 Nov., 2021)

Foundation Batch REASONING अब तक पढ़ाए का रिवीजन

$$\begin{array}{r} 60H \sim 11M \\ \hline 2 \\ 60 \times 7 \sim 11 \times 30 \\ \hline 2 \\ 420 \sim 330 \\ \hline 2 \\ 90 \sim 45 \end{array}$$

19. It is 7: 30 o'clock in a clock, then calculate the angle (in degrees) formed between the two hands of the clock?

घड़ी में 7 बजकर 30 मिनट हो रहे हैं, तो बताओ घड़ी की दोनों सुईयों के मध्य कितने डिग्री का कोण बनेगा?

- (a) 46°
- ☒ (b) 45°
- (c) 47°
- (d) None of these

Foundation Batch REASONING अब तक पढ़ाए का रिवीजन

20. How many such pairs of letters are there in the word **COUNTERACT** each of which has as many letters between them in the word as they have between them in the English alphabet

शब्द **COUNTERACT** में अक्षरों के ऐसे कितने जोड़े हैं जिनमें प्रत्येक के बीच शब्द में उतने ही अक्षर हैं जितने कि अंग्रेजी वर्णमाला में उनके बीच हैं

- (a) एक
- (b) दो
- (c) तीन
- (d) तीन से अधिक
- (e) None of these