

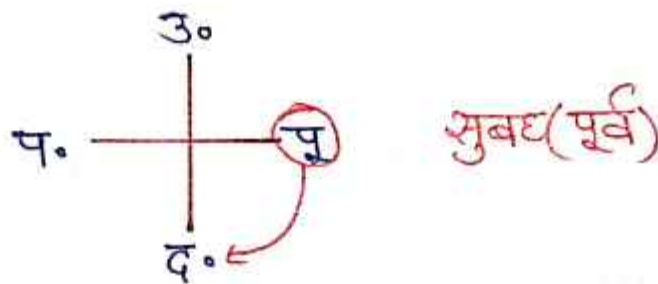
DIRECTION TEST

CLASS-5

Q) One day after sunrise, two friends Rajiv and Sanjeev were standing facing each other and talking. Rajiv saw that his shadow was falling exactly to the right of Sanjeev, then in which direction was Rajiv facing?

(एक दिन सूर्योदय के पश्चात दो मित्र राजीव एवं संजीव एक-दूसरे के सम्मुख खड़े होकर बातें कर रहे थे। राजीव ने देखा कि उसकी परछाई संजीव के ठीक दाएँ पड़ रही थी, तो राजीव का मुख किस दिशा में था?)

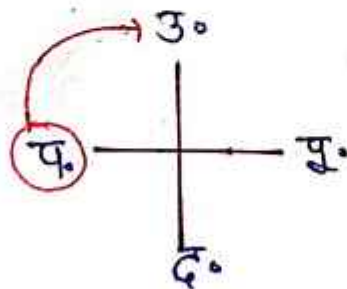
Ans उत्तर



Q) One day at four in the evening, Ramesh saw his friend Mahesh walking in front of him. If Mahesh's shadow was falling to the immediate right of Ramesh, then in which direction was Mahesh facing?

(एक दिन शाम चार बजे रमेश ने देखा कि उसका मित्र महेश उसके सामने से चला आ रहा है। यदि महेश की परछाई रमेश के ठीक दाएँ पड़ रही थी, तो महेश का मुख किस दिशा में था?)

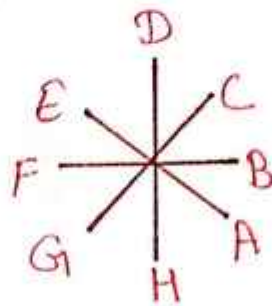
Ans दक्षिण



Q) Eight friends A, B, C, D, E, F, G and H are sitting around a round table at equal distance in anti-clockwise direction and in same order facing the center of the table. If H is sitting in the South direction, then in which direction is C

sitting?
 (आठ मित्र A, B, C, D, E, F, G और H एक गोल मेज के परितः वामावर्त रूप से एक दूसरे से समान दूरी पर इसी क्रम में केन्द्र की ओर अभिमुख होकर बैठे हैं। यदि H दक्षिण दिशा में बैठा है तो C किस दिशा में बैठा है?)

Ans उत्तर - पूर्व

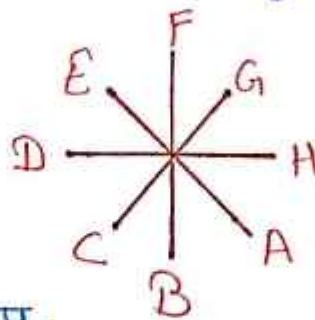


वामावर्त - घड़ी की विपरीत दिशा

Q) Eight friends A, B, C, D, E, F, G and H are sitting around a round table at equal distance in clockwise direction and in same order facing the centre of the table. If E is sitting in the North-West direction, then in which direction is G facing?

(आठ मित्र A, B, C, D, E, F, G और H एक वृत्ताकार मेज के परितः एक-दूसरे से समान दूरी पर इसी क्रम में केन्द्र की ओर अभिमुख होकर दक्षिणावर्त क्रम में बैठे हुए हैं। यदि E उत्तर-पश्चिम दिशा में बैठा है, तो G का मुख किस दिशा में है?)

Ans दक्षिण - पश्चिम

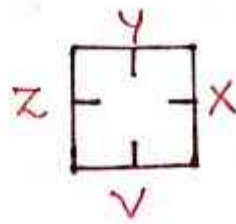


• G कौन सी दिशा में है - उ.पू.

Q) V, X, Y and Z are playing cards. X is to the left of Y and V is to the right of Z. If X is facing West, which direction is V facing?

(V, X, Y और Z ताश खेल रहे हैं। X, Y के बाएँ हैं और V, Z के दाएँ हैं। अगर X पश्चिम की ओर मुँह करके बैठा है, तो V किस दिशा में मुँह करके बैठा है?)

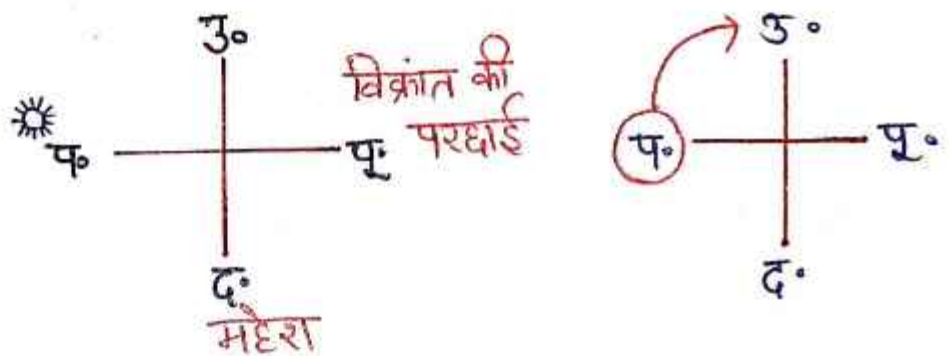
Ans उत्तर



Q) One evening, before sunset, Mahesh and Vikrant are standing back towards each other in a field. If Vikrant's shadow turns to the right of Mahesh, then which direction is Mahesh facing?

(एक शाम, सूर्यास्त से पहले एक मैदान में महेश और विक्रान्त एक दूसरे की ओर पीठ करके खड़े हैं। अगर विक्रान्त की छाया महेश के बिल्कुल दाएँ बनती है, तो महेश किस दिशा की ओर मुँह किस दृष्ट हैं?)

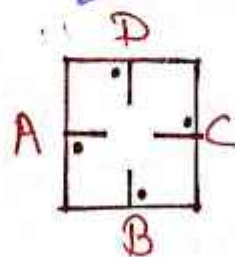
Ans उत्तर



Q) A, B, C and D are playing carrom. A, C and B, D are partners. C is to the left of D who is facing South. Then A is facing towards.

(A, B, C और D कैरम का खेल खेल रहे हैं। A, C और B, D पार्टनर हैं। C, D के बाईं ओर बैठे हैं जिसका मुख दक्षिण की ओर है। तो A का मुख किस दिशा में होगा?)

Ans पूर्व



जो, जिसका → बाईं

A-C
B-D