



# SSC GD 2025



## अवसर बेच


# REASONING

# DIRECTION TEST

Part -4

LIVE 21-05-2024 10:00 AM



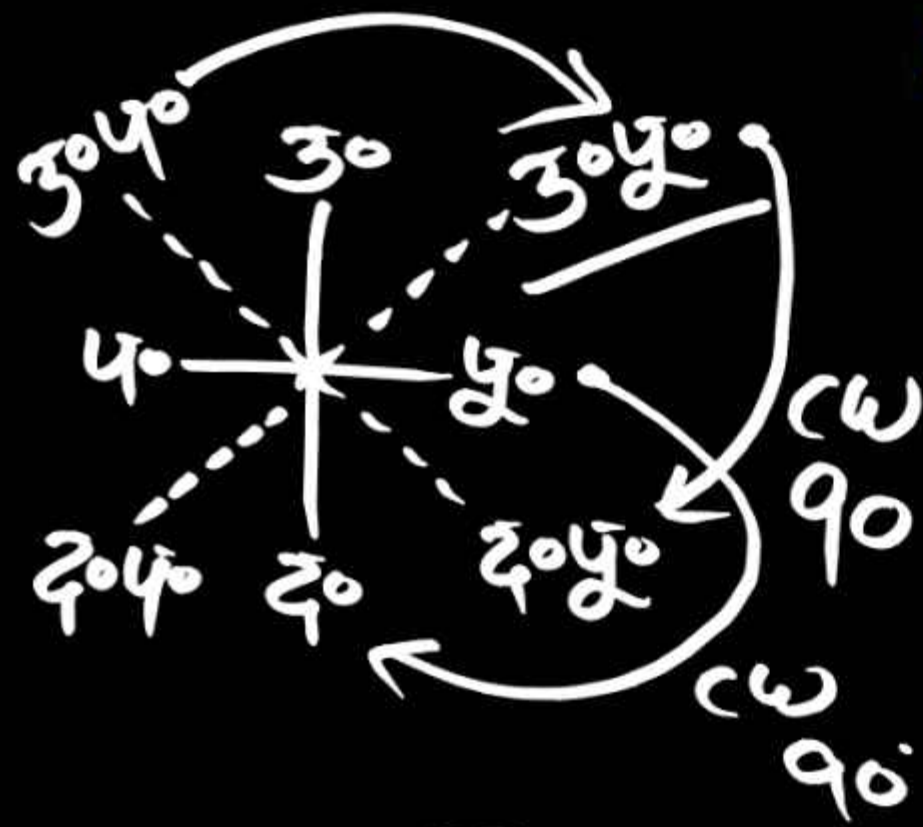


	R	L
2	18	25 X
2	30	33 X
2	55	18 2
2	22	99 3

1. Randeep is looking in the south-west direction, then he turns as follows. 18R, 25L, 30R, 33L, 55R, 18L

रणदीप दक्षिण - पश्चिम दिशा में देख रहा है, उसके बाद वह निम्न - प्रकार से घूमता है। 18R, 25L, 30R, 33L, 55R, 18L, 22R, 99L तो बतायें अब उसका मुंह किस दिशा में है?

- (a) उत्तर पूर्व
- (b) दक्षिण पश्चिम
- (c) उत्तर पश्चिम
- (d) None

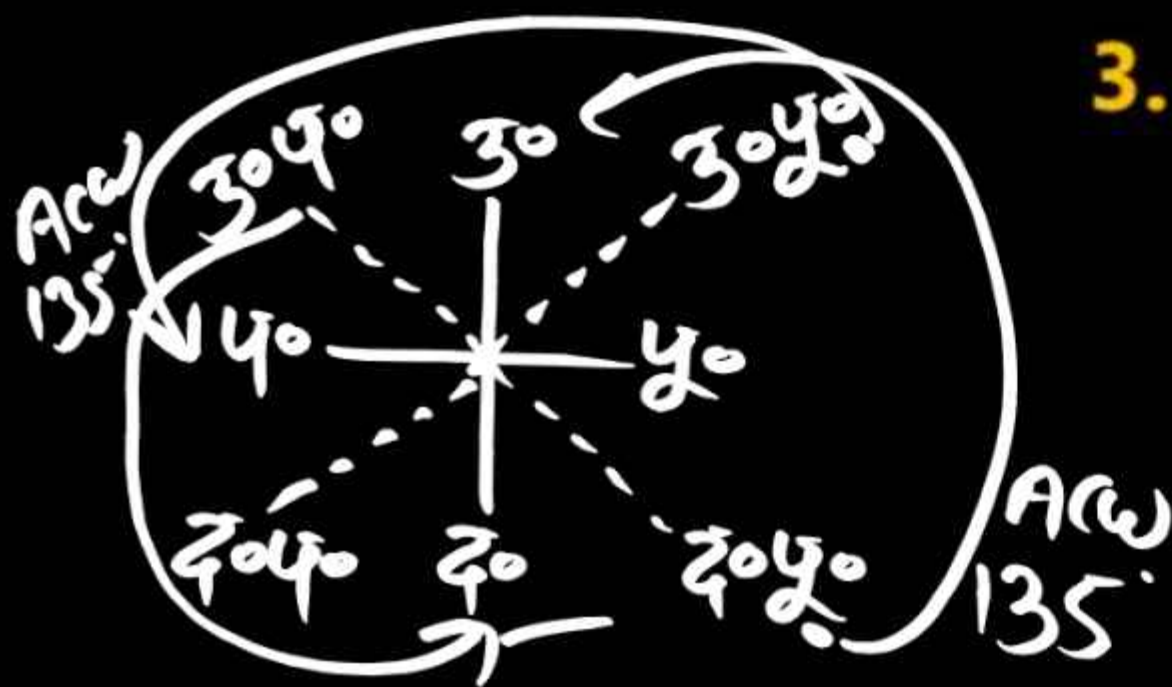


उ०पू० — द०पू०  
 पू० — दक्षिण  
 उ०प० — ?

2. If North-East is called South-East, and East is called South, then what will North-West be called?

यदि उत्तर - पूर्व को दक्षिण - पूर्व कहा जाए, और पूर्व को दक्षिण कहा जाए तो बताए उत्तर-पश्चिम को क्या कहा जाएगा ?

- (a) उत्तर पूर्व
- (b) उत्तर पश्चिम
- (c) दक्षिण पश्चिम
- (d) None




द०पू० - उत्तर  
 30°पू० - पश्चिम  
 30°पू० - ?

3. If south-east is called north and north-east is called west, then tell what will north-west be called?

यदि दक्षिण - पूर्व को उत्तर कहा जाए, उत्तर-पूर्व को पश्चिम कहा जाए तो बताएँ उत्तर - पश्चिम को क्या कहा जाएगा ?

- (a) उत्तर
- (b) पश्चिम
- (c) दक्षिण
- (d) None



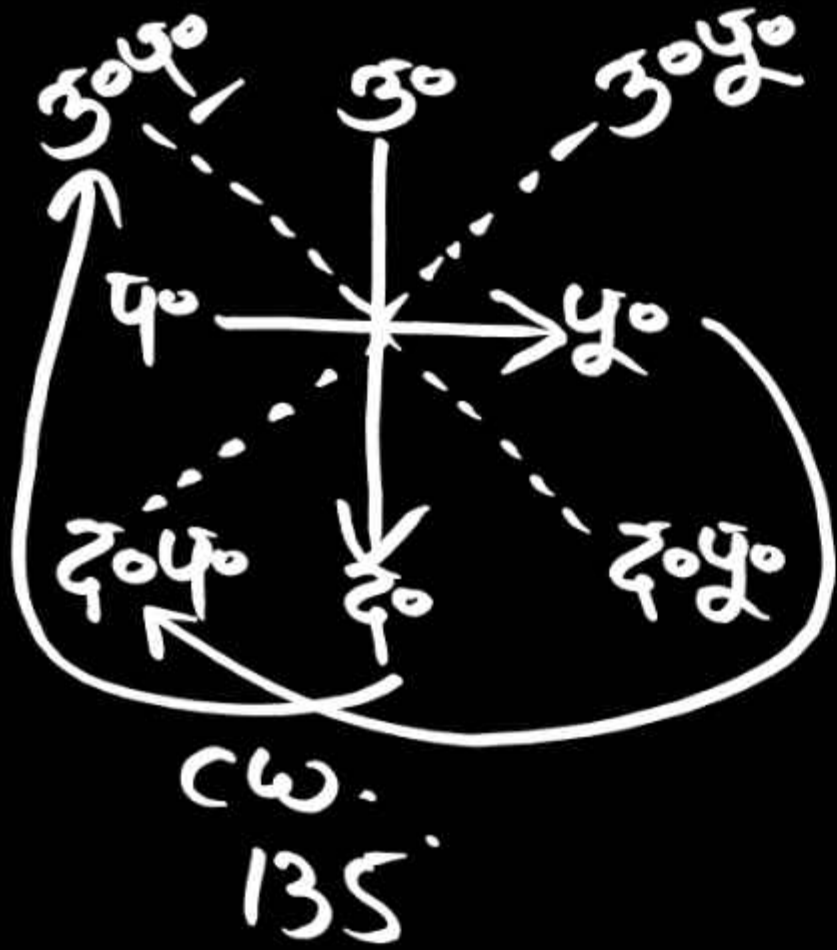
९०  
१३५  
पूर्व - दक्षिण  
द०पू० - पश्चिम  
उ०प० - ?

4. If East is called South, South-East is called West, then what will North-West be called?

यदि पूर्व को दक्षिण कहा जाए, दक्षिण - पूर्व को पश्चिम कहा जाए तो उत्तर - पश्चिम को क्या कहा जाएगा ?

- (a) उत्तर पूर्व
- (b) उत्तर पश्चिम
- (c) दक्षिण पश्चिम
- (d) None

९०, १३५, १८०  
९०, १३५, ९०




9. It is 4:30 o'clock in a clock. If at this time the minute hand is in the north-west direction, then tell what will be the direction of the minute hand at 7:15 o'clock?

एक घड़ी में 4:30 बजे हैं यदि इस समय मिनट की सूई उत्तर-पश्चिम दिशा में हो तो बताइये 7:15 बजे मिनट की सूई की दिशा क्या होगी?

- (a) दक्षिण - पूर्व      (b) दक्षिण - पश्चिम ✓
- (c) उत्तर - पूर्व      (d) None

एक दिन शाम के समय रोहन तथा श्याम आगने-सागने  
बड़े-बड़े बातें कर रहे थे।

यदि रोहन की परदाई श्याम के बाये पड़ रही थी,  
तो रोहन का मुँह कौन सी दिशा में था - उत्तर  
श्याम का मुँह कौन सी दिशा में था - दक्षिण



शाम - पश्चिम  
बाये (L)