

DIRECTION TEST

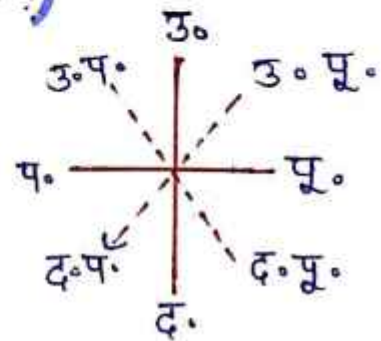
CLASS-4

Q) Randeep is facing South-West direction, after than he turns as follows, 18R, 25L, 30R, 33L, 55R, 18L, 22R, 99L then tell in which direction is he facing now?

(रणदीप दक्षिण-पश्चिम दिशा में देख रहा है, उसके बाद वह निम्न प्रकार से घूमता है। 18R, 25L, 30R, 33L, 55R, 18L, 22R, 99L तो बतायें अब उसका मुँह किस दिशा में है?)

Ans उत्तर पूर्व

	R	L	
2	18	25	±
2	30	33	±
2	55	18	±
2	22	99	±

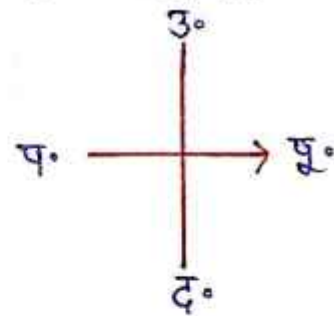


Q) पूर्व दिशा में

15 R, 18L, 25 R, 33L, 60R, 72L, 100R, 97L

Ans पूर्व

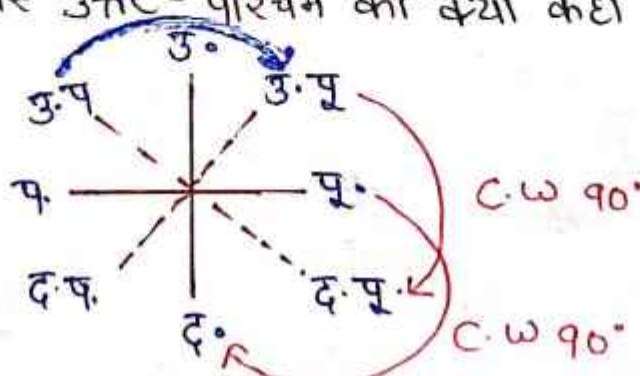
	R	L	
3	15	18	±
1	25	33	±
0	60	72	±
0	100	97	±



Q) If North-East is called South-East, and East is called South, then what will North-West be called?

(यदि उत्तर-पूर्व को दक्षिण-पूर्व कहा जाए, और पूर्व को दक्षिण कहा जाए तो बताएँ उत्तर-पश्चिम को क्या कहा जाएगा?)

Ans उत्तर पूर्व

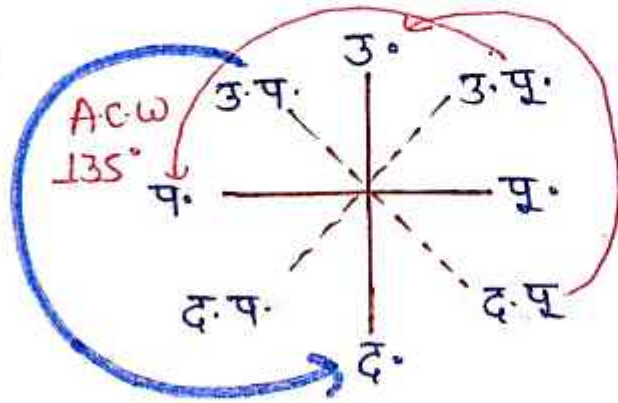


उ.पू - द.पू.
पूर्व - दक्षिण
उ.प. - ?

Q) If south-east is called north and north-east is called west, then tell what will north-west be called?

(यदि दक्षिण-पूर्व को उत्तर कहा जाए, उत्तर पूर्व को पश्चिम कहा जाए तो बताइएँ उत्तर-पश्चिम को क्या कहा जाएगा?)

Ans दक्षिण

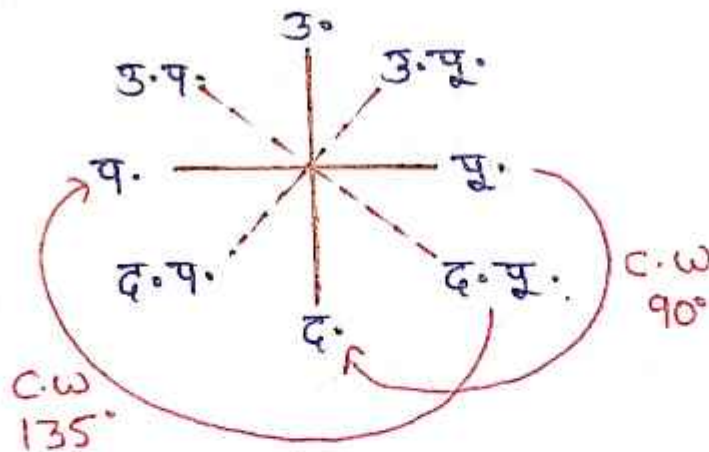


द.पू. - उत्तर
उ.पू. - पश्चिम
उ.प. - ?

Q) If East is called South, South-East is called West, then what North-West be called?

(यदि पूर्व को दक्षिण कहा जाए, दक्षिण-पूर्व को पश्चिम कहा जाए तो उत्तर-पश्चिम को क्या कहा जाएगा?)

Ans



पूर्व - दक्षिण
द.पू. - पश्चिम
उ.प. - ?

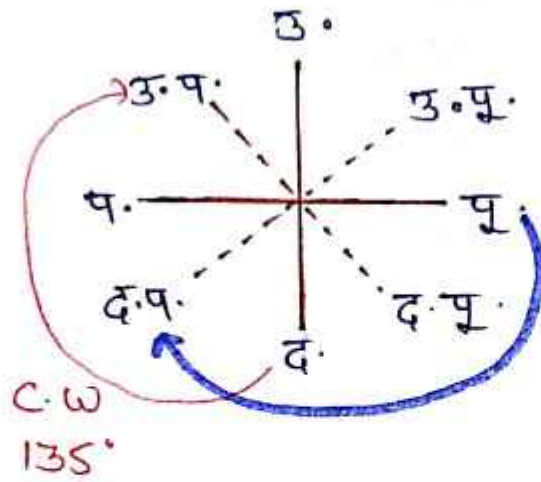
$90^\circ, 135^\circ, 180^\circ \Rightarrow$ द.पू.

$90^\circ, 135^\circ, 90^\circ \Rightarrow$ उ.पू.

Q) It is 4:30 o'clock in a clock, If at this time the minute hand is in the north-west direction, then tell what will be the direction of the minute hand at 7:15 o'clock?

(एक घड़ी में 4:30 बजे हैं यदि इस समय मिनट की सूई उत्तर-पश्चिम दिशा में हो तो बताइये 7:15 बजे मिनट की सूई की दिशा क्या होगी?)

Ans दक्षिण पश्चिम

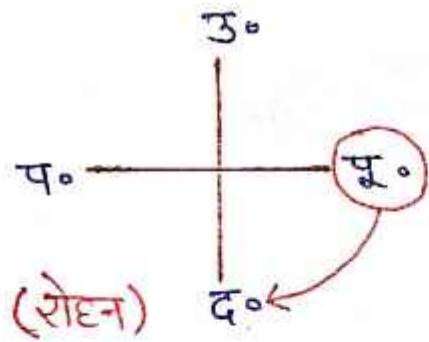


* परछाई पर आधारित प्रश्न *

① एक दिन सुबह के समय रोहन तथा श्याम आमने - सामने खड़े होकर बातें कर रहे थे।

यदि श्याम की परछाई रोहन के दाये पड़ रही थी,

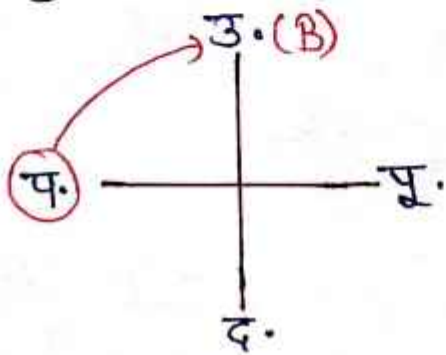
- तो श्याम का मुँह कौन सी दिशा में था - उत्तर
- रोहन का मुँह कौन सी दिशा में था - दक्षिण



सुबह - पूर्व
दायें (R)

① एक दिन शाम के समय A तथा B आमने - सामने खड़े होकर बातें कर रहे थे।

- यदि A की परछाई B के दाये पड़ रही थी,
- तो A का मुँह कौन सी दिशा में था - दक्षिण
- B का मुँह कौन सी दिशा में था - उत्तर



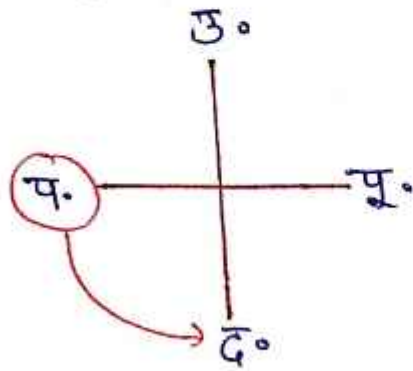
शाम - पश्चिम
दायें (R)

ROJGAR WITH ANKIT

⑨ एक दिन राग के समय रोहन तथा श्याम आमने - सामने खड़े होकर बातें कर रहे थे।

यदि रोहन की परछाई श्याम के बायें पड़ रही थी,

- तो रोहन का मुँह कौन सी दिशा में था - उत्तर
- श्याम का मुँह कौन सी दिशा में था - दक्षिण



शाम - पश्चिम
बायें (L)