


# DICE (पासा)


CLASS-6

Q) A dice (X) is rolled three times in the same order. Its two positions (X1 and X2) are given. Choose the next possible position from the following options

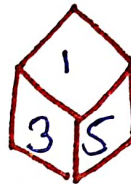
एक पासे (X) को तीन बार एक ही क्रम में घुमाया जाता है। उसकी दो स्थितियाँ (X1 और X2) दी गई हैं। निम्नलिखित विकल्पों में से अगली संभावित स्थिति का चयन करें।




X




X1



X2



(a)



~~(b)~~



(c)

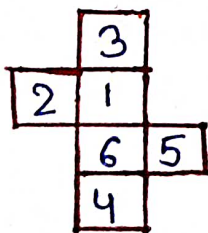


(d)

2-3-6  
~~2-1-3~~  
 5

Q) Select the dice that can be made by folding the given sheet along the lines given on it?

उस/उन पासे/पासों का चयन करें, जिसे दी गई शीट को लाइनों पर मोड़कर बनाया जा सकता है?



3-6  
 1-4  
 2-5



(a)



~~(b)~~



~~(c)~~

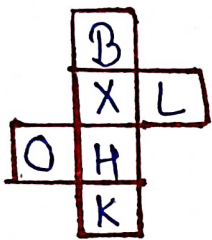


(d)

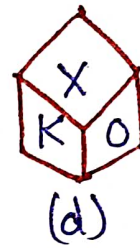
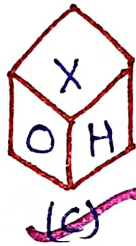

⇒ B and C

8) Select the dice that can be made by folding the given sheet along the lines given on it?

उस पासे का चयन कीजिए, जिसे दी गई शीट को रेखाओं पर मोड़कर बनाया जा सकता है।



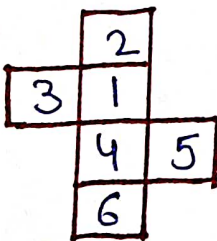
B — H  
X — K  
L — O



⇒ A and C

9) Select the dice that can be made by folding the given sheet along the lines given on it?

उस पासे का चयन कीजिए, जिसे दी गई शीट को रेखाओं पर मोड़कर बनाया जा सकता है।



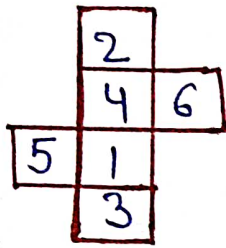
2 — 4  
1 — 6  
3 — 5




⇒ Only C

Q) Select the dice that can be formed by folding the given sheet along the lines.

उन पासों का चयन करें, जिसे दी गई शीट को लाइनों पर मोड़कर बनाया जा सकता है।



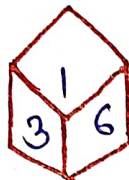
2-1  
4-3  
5-6



~~(a)~~



(b)



~~(c)~~

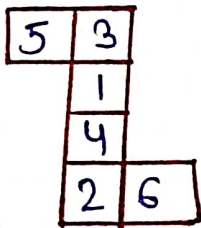


(d)


⇒ Only A and C

Q) Select the dice that can be formed by folding the given sheet along the lines.


उन पासों का चयन करें, जिसे दी गई शीट को लाइनों पर मोड़कर बनाया जा सकता है।



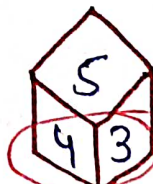
3-4  
1-2  
5-6



~~(a)~~



~~(b)~~



(c)




(d)

⇒ A and B

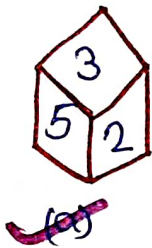
# ROJGAR WITH ANKIT

Q) Select the dice that can be made by folding the given sheet along the lines given on it.

उस बॉक्स का चयन करें, जिसे दी गई शीट को उस पर अंकित रेखाओं के अनुसार मोड़कर बनाया जा सकता है ?



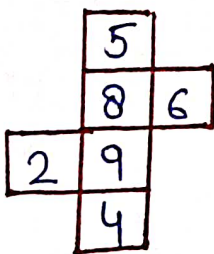
3-5  
6-1  
4-2



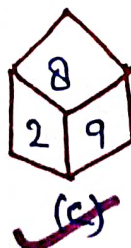
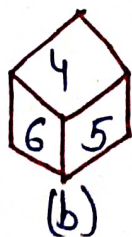

⇒ Only A

Q) Select the dice that can be made by folding the given sheet along the lines given on it?

उस पासे का चयन करें, जिसे निम्नांकित शीट को रेखाओं पर मोड़ने पर प्राप्त किया जा सकता है ?



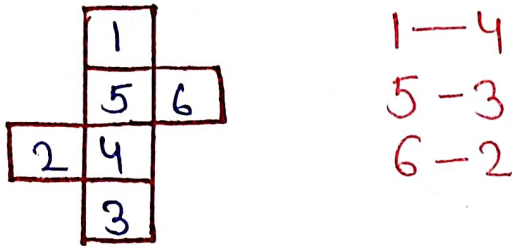
5-9  
8-4  
2-6



⇒ Only C

Q) Select the cube which can be formed by folding the given sheet along the lines?


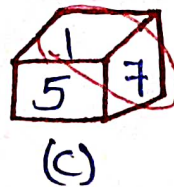
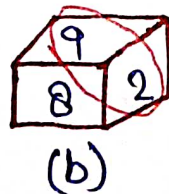


उस घन का चयन करें जो दी गई शीट को रेखाओं के अनुरोध मोड़कर बनाया जा सकता है।



→ केवल C और D

Q) Select the cubes that can be formed by folding the given sheet along the lines.

उस घनों का चयन कीजिए जो दी गई शीट को रेखाओं के अनुरोध मोड़कर बनाए जा सकते हैं।



→ केवल A और D