

Foundation Batch



REASONING

Dice (पासा)

Part -8

LIVE 08-04-2024 11:00PM

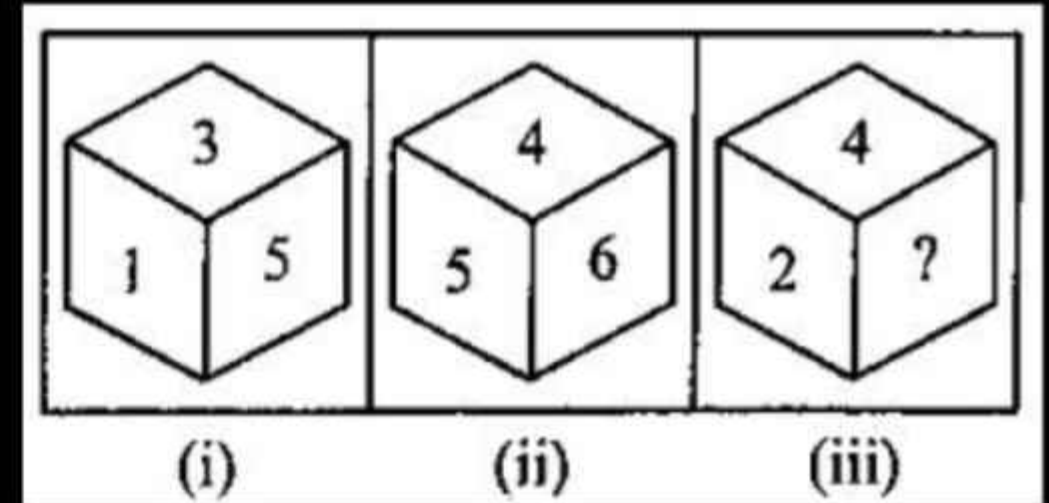


Foundation Batch REASONING

Q Which number will come in place of the question mark (?) in case (iii)?

स्थिति (iii) में प्रश्न चिन्ह (?) के स्थान पर कौन - सा अंक आएगा?

5-1-3
~~5-4-6~~
2

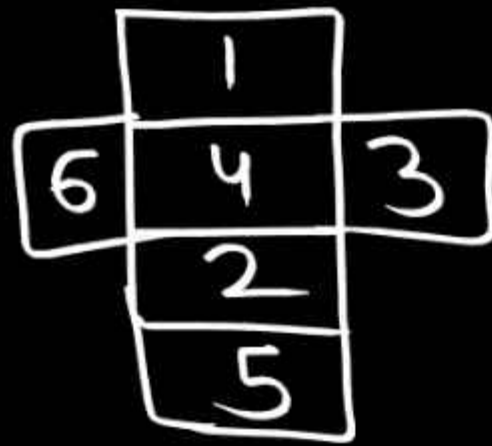


~~(a) 1~~

~~(c) 5~~

✓ (b) 3

(d) 6



Q A dice is taken. Numbers from 1 to 6 are written on its faces. The faces with numbers 1 and 4 are adjacent to each other. Number 6 is on the face opposite to the face with number 3. Number 2 is not on the face opposite to face with number 4. Which of these numbers would be opposite to number 2?

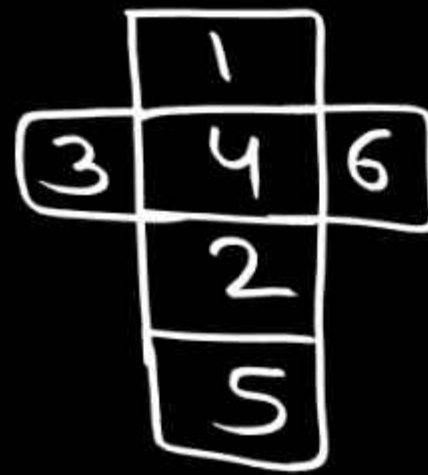
एक पासा लिया गया है। 1 से 6 तक की संख्याएँ उसके फलकों पर लिखी जाती है। संख्या 1 और 4 वाले फलक एक-दूसरे के सन्निकट हैं। संख्या 6 वाला फलक संख्या 3 वाले फलक के विपरीत में है। संख्या 2, संख्या 4 वाले फलक के विपरीत नहीं है। इन संख्याओं में से कौन-सी संख्या 2 के विपरीत हो सकती है?

(a) 1

(b) 4

(c) 5

(d) 3



Q A die has been taken. The numbers 1 to 6 are written on its faces. The faces of numbers 1 and 4 are adjacent to each other. The face numbered 3 is opposite to the face numbered 6. Number 2 is not in the face opposite to number 4. Which of these pair of numbers are on adjacent faces?

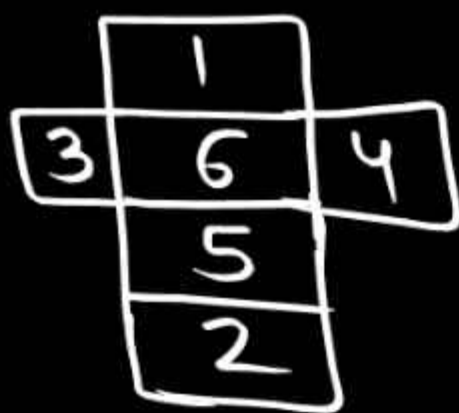
एक पासा लिया गया है। 1 से 6 तक की संख्याएँ उसके फलकों पर लिखी गई हैं। संख्या 1 और 4 के फलक एक-दूसरे के सन्निकट हैं। संख्या 3 वाला फलक संख्या 6 वाले फलक के विपरीत में है। संख्या 2, संख्या 4 वाले फलक के विपरीत फलक में नहीं है। इनमें से कौन-सा संख्या जोड़ा सन्निकट फलकों पर है?

(a) 1 and 2 / 1 और 2

(c) 4 and 5 / 4 और 5

(b) 6 and 3 / 6 और 3

✓ (d) 3 and 2 / 3 और 2



Q Numbers from 1 to 6 are written on the faces of a dice. The sum of the numbers on opposite faces is 8, 7 and 6 respectively. The number 6 is adjacent to the number 1 and three other numbers. The number 4 is adjacent to the number 2 and three other numbers. Which number is on the face opposite to number 5?

एक पासे के फलकों पर 1 से 6 तक की संख्याएँ लिखी गई हैं।
विपरीत फलकों की संख्याओं का योग क्रमशः 8, 7 और 6 है।
संख्या 6, संख्या 1 और तीन अन्य संख्याओं के सन्निकट है।
संख्या 4, संख्या 2 और तीन अन्य संख्याओं के सन्निकट है।
संख्या 5 के विपरीत फलक पर कौन-सी संख्या है?

(a) 4

(b) 3

(c) 2

(d) 1